

This Question Paper consists of **51** questions and **22** printed pages + One Outline Map of **India**.
इस प्रश्न-पत्र में **51** प्रश्न तथा **22** मुद्रित पृष्ठ + **भारत** का एक रेखा-मानचित्र है।

Roll No.

--	--	--	--	--	--	--	--	--	--	--

अनुक्रमांक

9013A

SOCIAL SCIENCE
सामाजिक विज्ञान
(213)

Code No. **70/OS/2**
कोड नं.

SET/सेट

A

Day and Date of Examination
(परीक्षा का दिन व दिनांक)

Signature of Invigilators 1.
(निरीक्षकों के हस्ताक्षर)
2.

General Instructions :

1. Candidate must write his/her Roll Number on the first page of the Question Paper.
2. Please check the Question Paper to verify that the total pages and the total number of questions contained in the Question Paper are the same as those printed on the top of the first page. Also check to see that the questions are in sequential order.
3. For the objective type of questions, you have to choose any **one** of the four alternatives given in the question i.e. (A), (B), (C) or (D) and indicate your correct answer in the Answer-Book given to you.
4. All the questions including objective-type questions are to be answered within the allotted time and no separate time limit is fixed for answering objective-type questions.
5. Making any identification mark in the Answer-Book or writing Roll Number anywhere other than the specified places will lead to disqualification of the candidate.
6. Write your Question Paper Code No. **70/OS/2, Set A** on the Answer-Book.
7. (a) The Question Paper is in English/Hindi medium only. However, if you wish, you can answer in any **one** of the languages listed below :
English, Hindi, Urdu, Punjabi, Bengali, Tamil, Malayalam, Kannada, Telugu, Marathi, Odia, Gujarati, Konkani, Manipuri, Assamese, Nepali, Kashmiri, Sanskrit and Sindhi.
You are required to indicate the language you have chosen to answer in the box provided in the Answer-Book.
(b) If you choose to write the answer in the language other than Hindi and English, the responsibility for any errors/mistakes in understanding the questions will be yours only.



70/OS/2/213-A

सामान्य अनुदेश :

1. परीक्षार्थी प्रश्न-पत्र के पहले पृष्ठ पर अपना अनुक्रमांक अवश्य लिखें ।
2. कृपया प्रश्न-पत्र को जाँच लें कि प्रश्न-पत्र के कुल पृष्ठों तथा प्रश्नों की उतनी ही संख्या है जितनी प्रथम पृष्ठ के सबसे ऊपर छपी है । इस बात की जाँच भी कर लें कि प्रश्न क्रमिक रूप में हैं ।
3. वस्तुनिष्ठ प्रश्नों में आपको चार विकल्पों (A), (B), (C) अथवा (D) में से कोई एक उत्तर चुनना है तथा दी गई उत्तर-पुस्तिका में आप सही उत्तर लिखिए ।
4. वस्तुनिष्ठ प्रश्नों के साथ-साथ सभी प्रश्नों के उत्तर निर्धारित अवधि के भीतर ही देने हैं । वस्तुनिष्ठ प्रश्नों के लिए अलग से समय नहीं दिया जाएगा ।
5. उत्तर-पुस्तिका में पहचान-चिह्न बनाने अथवा निर्दिष्ट स्थानों के अतिरिक्त कहीं भी अनुक्रमांक लिखने पर परीक्षार्थी को अयोग्य ठहराया जायेगा ।
6. अपनी उत्तर-पुस्तिका पर प्रश्न-पत्र की कोड संख्या 70/OS/2, सेट **A** लिखें ।
7. (क) प्रश्न-पत्र केवल अंग्रेजी/हिंदी माध्यम में है । फिर भी, यदि आप चाहें तो नीचे दी गई किसी एक भाषा में उत्तर दे सकते हैं :
अंग्रेजी, हिंदी, उर्दू, पंजाबी, बंगला, तमिल, मलयालम, कन्नड़, तेलुगू, मराठी, उड़िया, गुजराती, कोंकणी, मणिपुरी, असमिया, नेपाली, कश्मीरी, संस्कृत और सिंधी ।
कृपया उत्तर-पुस्तिका में दिए गए बॉक्स में लिखें कि आप किस भाषा में उत्तर लिख रहे हैं ।
(ख) यदि आप हिंदी एवं अंग्रेजी के अतिरिक्त किसी अन्य भाषा में उत्तर लिखते हैं, तो प्रश्नों को समझने में होने वाली त्रुटियों/गलतियों की जिम्मेदारी केवल आपकी होगी ।

General Instruction / सामान्य अनुदेश :

In case of any doubt or confusion in the question paper, the English Version will prevail.

प्रश्न-पत्र में किसी भी प्रकार के संदेह अथवा दुविधा की स्थिति में अंग्रेजी अनुवाद ही मान्य होगा ।

General Instruction / सामान्य अनुदेश :

1. Answers of **all** questions are to be given in the Answer-Book given to you.
सभी प्रश्नों के उत्तर आपको दी गयी उत्तर-पुस्तिका में ही लिखें ।
2. **15 minutes** time has been allotted to read this Question Paper. The question paper will be distributed at **02.15 p.m.** From **02.15 p.m.** to **02.30 p.m.**, the students will read the question paper only and will not write any answer on the Answer-Book during this period.
इस प्रश्न-पत्र को पढ़ने के लिए **15 मिनट** का समय दिया गया है । प्रश्न-पत्र का वितरण दोपहर में **02.15 बजे** किया जाएगा । दोपहर **02.15 बजे** से **02.30 बजे** तक छात्र केवल प्रश्न-पत्र को पढ़ेंगे और इस अवधि के दौरान वे उत्तर-पुस्तिका पर कोई उत्तर नहीं लिखेंगे ।

SOCIAL SCIENCE

सामाजिक विज्ञान

(213)

Time : 3 Hours]

[Maximum Marks : 100

समय : 3 घण्टे]

[पूर्णांक : 100

Note : (i) This Question Paper consists of **51** questions in all.

(ii) **All** questions are compulsory.

(iii) Marks are given against each question.

(iv) **Section – A** consists of :

(a) **Q. No. 1 to 20** – Multiple Choice Type Questions (MCQs) carrying **1** mark each. Select and write the most appropriate option out of the four options given in each of these questions.

(b) **Q. No. 21 to 35** – Objective type questions carrying **2** marks each (with **2** sub-parts of **1** mark each and **4** sub parts of $\frac{1}{2}$ mark each). Attempt these questions as per the instructions given for each of the questions.

Section – B consists of :

(c) **Q. No. 36 to 41** – Very Short Answer type questions carrying **2** marks each to be answered in the range of **30 to 50** words. Attempt these questions as per the instructions given for each of the questions.

(d) **Q. No. 42 to 47** – Short Answer type questions carrying **3** marks each to be answered in the range of **50 to 80** words.

(e) **Q. No. 48 and 49** – Skill (Map) based questions carrying **4** marks each. (Alternative questions are given in lieu of map based questions for Visually impaired students.)

(f) **Q. No. 50 and 51** – Long Answer type questions carrying **6** marks each to be answered in **80 to 120** words.

निर्देश : (i) इस प्रश्न-पत्र में कुल 51 प्रश्न हैं ।

(ii) सभी प्रश्न अनिवार्य हैं ।

(iii) सभी प्रश्नों के अंक उनके साथ दिये गये हैं ।

(iv) खण्ड - अ के प्रश्न इस प्रकार हैं :

(a) प्र.सं. 1 से 20 तक – 1 अंक वाले बहुविकल्पीय प्रकार के प्रश्न हैं । इन प्रश्नों में दिये गये चार विकल्पों में से सर्वाधिक उपयुक्त विकल्प को चुनें तथा लिखें ।

(b) प्र.सं. 21 से 35 तक – 2 अंक वाले वस्तुनिष्ठ प्रकार के प्रश्न हैं (इनमें से कुछ प्रश्नों में प्रत्येक 1 अंक के 2 उप-भागों और प्रत्येक 1/2 अंक के 4 उप-भागों के साथ)। इन प्रश्नों का उत्तर प्रश्नों के साथ दिये गये निर्देशों के अनुसार दीजिये ।

खण्ड - ब के प्रश्न इस प्रकार हैं :

(c) प्र.सं. 36 से 41 तक – 2 अंक वाले अति-लघूत्तरीय प्रकार के प्रत्येक प्रश्न का उत्तर 30 से 50 शब्दों में दीजिये । इन प्रश्नों का उत्तर प्रश्नों के साथ दिये गये निर्देशों के अनुसार दें ।

(d) प्र.सं. 42 से 47 तक – 3 अंक वाले लघूत्तरीय प्रकार के प्रत्येक प्रश्न का उत्तर 50 से 80 शब्दों में दीजिए ।

(e) प्र.सं. 48 एवं 49 – कौशल (मानचित्र) पर आधारित 4 अंक वाले प्रश्न हैं । (दृष्टिबाधित छात्रों हेतु मानचित्र पर आधारित प्रश्नों के स्थान पर वैकल्पिक प्रश्न दिये गये हैं ।)

(f) प्र.सं. 50 एवं 51 – 6 अंक वाले दीर्घोत्तरीय प्रकार के प्रत्येक प्रश्न का उत्तर 80 से 120 शब्दों में दें ।

SECTION – A

खण्ड – अ

1. In which one of the following years did Gandhiji reach Dandi to break the Salt Law ? 1

(A) 1940 (B) 1930

(C) 1920 (D) 1910

निम्नलिखित में से किस वर्ष गाँधीजी नमक कानून तोड़ने के लिए दांडी पहुँचे थे ?

(A) 1940 (B) 1930

(C) 1920 (D) 1910

2. Who amongst the following started the Khilafat Movement against the British Government ? 1

(A) Gandhiji and Pt. Jawaharlal Nehru

(B) Bal Gangadhar Tilak and Sardar Patel

(C) Shoukat Ali and Mohammad Ali

(D) Lala Lajpat Rai and Bipin Chandra Pal

निम्नलिखित में से किसने ब्रिटिश सरकार के खिलाफ खिलाफत आन्दोलन शुरू किया ?

(A) गाँधीजी और पं. जवाहरलाल नेहरू (B) बाल गंगाधर तिलक और सरदार पटेल

(C) शौकत अली और मोहम्मद अली (D) लाला लाजपत राय और बिपिनचन्द्र पाल

3. In which one of the following years Gandhiji suspended his Non-Cooperation Movement after Chauri-Chaura Incident ? 1

(A) 1932 (B) 1922

(C) 1942 (D) 1912

निम्नलिखित में से किस वर्ष गाँधीजी ने चौरी-चौरा घटना के बाद अपने असहयोग आंदोलन को स्थगित कर दिया ?

(A) 1932 (B) 1922

(C) 1942 (D) 1912

4. Which one of the following is the main goal of the 'Literacy Mission' in India ? 1

(A) To build more schools (B) To promote higher education

(C) To educate adults and children (D) To train teachers

निम्नलिखित में से भारत में 'साक्षरता मिशन' का मुख्य लक्ष्य कौन सा है ?

(A) अधिक स्कूल बनाना (B) उच्च शिक्षा को बढ़ावा

(C) वयस्कों और बच्चों को शिक्षित करना (D) शिक्षकों को प्रशिक्षित करना

5. Where was the 'Permanent Settlement' started by Lord Cornwallis in 1793 ? 1

- (A) Bengal and Bihar (B) Haryana and Punjab
(C) Rajasthan and Madhya Pradesh (D) Karnataka and Andhra Pradesh

1793 में लॉर्ड कॉर्नवालिस द्वारा 'स्थायी बंदोबस्त' कहाँ शुरू किया गया था ?

- (A) बंगाल और बिहार (B) हरियाणा और पंजाब
(C) राजस्थान और मध्य प्रदेश (D) कर्नाटक और आन्ध्र प्रदेश

6. In which one of the following years 'Sharda Act' was passed for preventing of child marriage ? 1

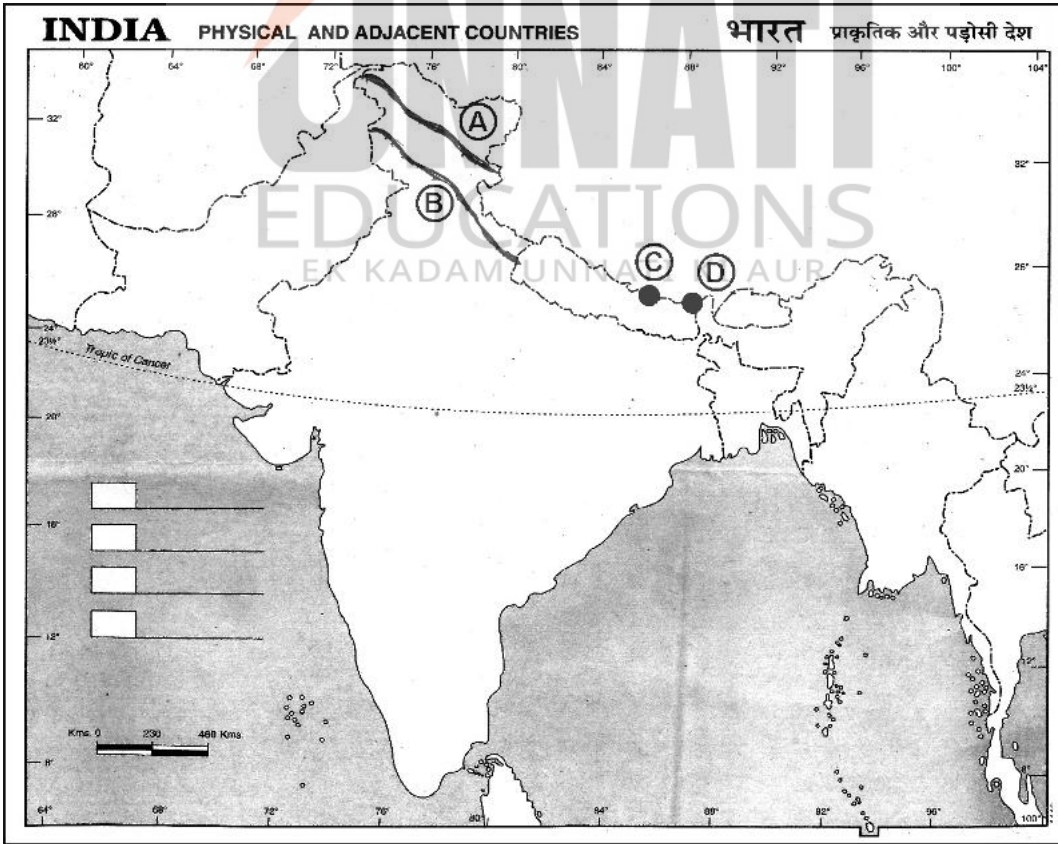
- (A) 1929 (B) 1939
(C) 1949 (D) 1959

बाल-विवाह पर रोक लगाने के लिए निम्नलिखित में से किस वर्ष 'शारदा अधिनियम' पास किया गया था ?

- (A) 1929 (B) 1939
(C) 1949 (D) 1959

Study the given map and answer the questions number 7 to 10.

दिए गए मानचित्र का अध्ययन कीजिए और प्रश्न संख्या 7 से 10 तक का उत्तर दीजिए ।



70/OS/2/213-A

6

7. Identify the mountain range marked as 'A' in the map. 1
- (A) Zaskar Range (B) Pirpanjal Range
(C) Karakoram Range (D) Shiwalik Range
- मानचित्र में 'A' के रूप में चिह्नित पर्वत शृंखला की पहचान कीजिए ।
- (A) जास्कर श्रेणी (B) पीरपंजाल श्रेणी
(C) कराकोरम श्रेणी (D) शिवालिक श्रेणी
8. Identify the mountain range marked as 'B' in the map. 1
- (A) Zaskar Range (B) Ladakh Range
(C) Pirpanjal Range (D) Karakoram Range
- मानचित्र में 'B' के रूप में चिह्नित पर्वत शृंखला की पहचान कीजिए ।
- (A) जास्कर श्रेणी (B) लद्दाख श्रेणी
(C) पीरपंजाल श्रेणी (D) कराकोरम श्रेणी
9. Identify the mountain peak marked as 'C' in the map. 1
- (A) Kanchenjunga (B) Mount Everest
(C) Makalu (D) Annapurna
- मानचित्र में 'C' के रूप में चिह्नित पर्वत-शिखर की पहचान कीजिए ।
- (A) कंचनजंगा (B) माउंट एवरेस्ट
(C) मकालू (D) अन्नपूर्णा
10. Identify the mountain peak marked as 'D' in the map. 1
- (A) Kanchenjunga (B) Namcha Barwa
(C) Nanda Devi (D) Dhaulagiri
- मानचित्र में 'D' के रूप में चिह्नित पर्वत-शिखर की पहचान कीजिए ।
- (A) कंचनजंगा (B) नामचा बरवा
(C) नंदा देवी (D) धौलागिरि

Note : Following questions are for **Visually Impaired** candidates only in lieu of Q. No. 7 to 10.

नोट : निम्नलिखित प्रश्न केवल **दृष्टिबाधित** परीक्षार्थियों के लिए प्रश्न संख्या 7 से 10 के स्थान पर है ।

7. Which is the outermost range of the Himalayas ? 1

- (A) Karakoram Range (B) Ladakh Range
(C) Shiwalik Range (D) Zaskar Range

हिमालय की सबसे बाह्य पर्वत-श्रेणी कौन सी है ?

- (A) कराकोरम श्रेणी (B) लद्दाख श्रेणी
(C) शिवालिक श्रेणी (D) जास्कर श्रेणी

8. How many parallel mountain ranges are the Himalayas divided into ? 1

- (A) Three (B) Two
(C) Four (D) Five

हिमालय को कितनी समानान्तर पर्वत श्रेणियों में विभाजित किया जाता है ?

- (A) तीन (B) दो
(C) चार (D) पाँच

9. Which is the highest peak of Himalayas in India ? 1

- (A) Kanchenjunga (B) Makalu
(C) Nanga Parvat (D) Dhaulagiri

भारत में हिमालय की सबसे ऊँची पर्वत चोटी कौन सी है ?

- (A) कंचनजंगा (B) मकालू
(C) नंगा पर्वत (D) धौलागिरि

10. Which one from the following is the highest peak of the Aravalli mountain ? 1

- (A) Gurushikhar (B) Mahendragiri
(C) Anaimudi (D) Dodabetta

निम्न में से अरावली पर्वत की सबसे ऊँची चोटी कौन सी है ?

- (A) गुरुशिखर (B) महेन्द्रगिरि
(C) अनाईमुडी (D) डोडाबेटा

11. Who amongst the following established the 'Arya Samaj' in 1875 ? 1
- (A) Keshab Chandra Sen (B) Swami Dayanand Saraswati
(C) Swami Vivekanand (D) Bal Gangadhar Tilak
- निम्नलिखित में से किसने 1875 में 'आर्य समाज' की स्थापना की ?
- (A) केशवचंद्र सेन (B) स्वामी दयानंद सरस्वती
(C) स्वामी विवेकानंद (D) बाल गंगाधर तिलक
12. Which one of following line divides India into two equal parts ? 1
- (A) Tropic of Cancer (B) Tropic of Capricorn
(C) Prime Meridian (D) Tropic of Antarctica
- निम्नलिखित में से कौन सी रेखा भारत को दो बराबर भागों में बाँटती है ?
- (A) कर्क वृत्त (B) मकर वृत्त
(C) प्रधान मध्याह्न (D) अंटार्कटिक वृत्त
13. Which one of following is the highest peak of the Western Ghat ? 1
- (A) Anaimudi (B) Makurti
(C) Dodabetta (D) Mahendragiri
- पश्चिमी घाट का सबसे ऊँचा पर्वत शिखर कौन सा है ?
- (A) अनाईमुडी (B) माकुर्ती
(C) डोडाबेटा (D) महेन्द्रगिरि
14. Which one of the following lake is situated on the coast of Malabar ? 1
- (A) Chilka (B) Sambhar
(C) Dal (D) Vembanad
- निम्नलिखित में से कौन सी झील मालाबार के तट पर स्थित है ?
- (A) चिल्का (B) सांभर
(C) डल (D) विम्बनाद

15. Which one of the following rivers is **not** the tributary of river Brahmaputra ? 1
- (A) Dibang (B) Kosi
(C) Lohit (D) Meghna
- निम्नलिखित में से कौन सी नदी ब्रह्मपुत्र नदी की सहायक नदी **नहीं** है ?
- (A) दिबांग (B) कोसी
(C) लोहित (D) मेघना
16. Due to the arrival of monsoon winds from the South-West, which of the following states will receive rainfall first ? 1
- (A) Tamil Nadu (B) Karnataka
(C) Kerala (D) Maharashtra
- मानसून पवनों के दक्षिण-पश्चिम से आने के कारण निम्नलिखित में से किस राज्य में सर्वप्रथम वर्षा होगी ?
- (A) तमिलनाडु (B) कर्नाटक
(C) केरल (D) महाराष्ट्र
17. In which of the following years did coalition governments begin at the national level in India ? 1
- (A) 1952 (B) 1989
(C) 1977 (D) 1967
- निम्नलिखित में से किस वर्ष में राष्ट्रीय स्तर पर भारत में गठबंधन सरकारों की शुरुआत हुई ?
- (A) 1952 (B) 1989
(C) 1977 (D) 1967
18. Which party system do India follow ? 1
- (A) One party system (B) Two party system
(C) Multi party system (D) No party system
- भारत किस दलीय प्रणाली का पालन करता है ?
- (A) एक-दलीय प्रणाली (B) द्वि-दलीय प्रणाली
(C) बहु-दलीय प्रणाली (D) कोई दलीय प्रणाली नहीं

19. Which of the following best describes the meaning of literacy ? 1
- (A) Ability to speak in English
(B) Ability to read and write
(C) Ability to use a computer
(D) Ability to solve maths problem
- निम्नलिखित में से साक्षरता का सही अर्थ क्या है ?
- (A) अंग्रेजी बोलने की क्षमता
(B) पढ़ने और लिखने की क्षमता
(C) कम्प्यूटर चलाने की क्षमता
(D) गणित के प्रश्न हल करने की क्षमता
20. Which of the following is an important factor in reducing regional imbalance ? 1
- (A) Increase in migration (B) Delay in programs
(C) Development in infrastructure (D) One-sided planning
- निम्नलिखित में से कौन सा क्षेत्रीय असंतुलन को कम करने का एक महत्वपूर्ण कारक है ?
- (A) शहरीकरण में तेजी (B) कार्यक्रमों में देरी
(C) संरचनात्मक विकास (D) एक-तरफा योजना
21. Complete the following sentence : 2 × 1
- In September, 1873 _____ Phule along his followers formed the _____ .
- निम्नलिखित वाक्य पूरा कीजिए :
- सितम्बर, 1873 में _____ फूले ने अपने अनुयायियों के साथ _____ का गठन किया ।
22. Fill in the blanks : 2 × 1
- (a) In 1822, the British introduced the _____ Land revenue system in the North-Western provinces, Punjab, the Ganga Valley and parts of Central India.
(b) The first railway line was the Red Hill Rail road line, Madras. It opened in 1837 and was used for the carriage of _____ .
- रिक्त स्थानों की पूर्ति कीजिए :
- (a) 1822 में अंग्रेजों ने उत्तर-पश्चिमी प्रान्तों, पंजाब, गंगा घाटी और मध्य भारत के कुछ हिस्सों में _____ भू-राजस्व प्रणाली शुरू की ।
(b) सबसे पहली रेलवे लाइन रेड हिल में रेल रोड लाइन मद्रास में थी । इसे 1837 में _____ को ले जाने के लिए खोला गया ।

23. Identify True or False :

2 × 1

- (a) James Hargreaves invented a hand powered spinning wheel (the spinning Jenny).
- (b) The League of Nations was the first International organisation setup in 1936 with its headquarters at Geneva.

सही या गलत की पहचान कीजिए :

- (a) जेम्स हरग्रीव्स ने 'एक हाथ संचालित चरखा' (स्पिनिंग जेनी) का आविष्कार किया ।
- (b) लीग ऑफ नेशन्स 1936 में स्थापित पहला अंतर्राष्ट्रीय संगठन था जिसका मुख्यालय जिनेवा में था ।

24. Match the Column A with Column B correctly.

4 × ½

Column A	Column B
(Scholar)	(Discovery)
(a) Samuel Crompton	(i) Electric Motor
(b) John Wilkinson	(ii) Spinning Mule
(c) George Stephenson	(iii) Drilling Machine
(d) Michael Faraday	(iv) Locomotive Engine
	(v) Telephone

स्तंभ A का सही मिलान स्तंभ B से कीजिए ।

स्तंभ A	स्तंभ B
(वैज्ञानिक)	(खोज)
(a) सैमुअल क्रॉम्पटन	(i) इलेक्ट्रिक मोटर
(b) जॉन विल्किन्सन	(ii) स्पिनिंग म्यूल
(c) जॉर्ज स्टीफेंसन	(iii) ड्रिलिंग मशीन
(d) माइकल फैराडे	(iv) लोकोमोटिव इंजन
	(v) टेलीफोन

25. Match the Column A with Column B correctly.

4 × ½

Column A	Column B
(a) Ahmadiya Movement	(i) 1856
(b) Mohammedan Literacy Society	(ii) 1875
(c) Aligarh Muslim University	(iii) 1899
(d) Hindu Widow Re-marriage Act	(iv) 1863
	(v) 1873

स्तंभ A का सही मिलान स्तंभ B से कीजिए ।

स्तंभ A	स्तंभ B
(a) अहमदिया आन्दोलन	(i) 1856
(b) मोहम्मदन साक्षरता सोसाइटी	(ii) 1875
(c) अलीगढ़ मुस्लिम विश्वविद्यालय	(iii) 1899
(d) हिन्दू विधवा पुनर्विवाह अधिनियम	(iv) 1863
	(v) 1873

26. Complete the following sentence with the help of any one from given options :

2 × 1

The Bolshevik Party headed by _____ organised the Soviet Revolution in _____ .

Option :

- (A) Bismarck, October 1920 (B) Lenin, October 1917
(C) Napoleon, October 1922 (D) Marx, October 1918

दिये गये विकल्पों में से किसी एक की सहायता से निम्नलिखित वाक्य को पूरा कीजिए :

_____ के नेतृत्व में बोल्शेविक पार्टी ने _____ में सोवियत क्रांति का आयोजन किया ।

विकल्प :

- (A) बिस्मार्क, अक्टूबर 1920 (B) लेनिन, अक्टूबर 1917
(C) नेपोलियन, अक्टूबर 1922 (D) मार्क्स, अक्टूबर 1918

70/OS/2/213-A

13

[Contd...

27. Complete the following sentence with the help of suitable words : 2 × 1
India can be divided into mainly six physical divisions : the Northern Mountain, the Northern Plain, _____, the Indian Desert and the _____ and Islands.
उपयुक्त शब्दों की सहायता से निम्नलिखित वाक्य को पूरा कीजिए :
भारत को मुख्यतः छः भौतिक भू-भागों उत्तरी हिमालय, उत्तरी मैदान, _____, भारतीय रेगिस्तान, _____ और द्वीपसमूह में विभाजित किया जा सकता है ।
28. Complete the following sentence with the help of suitable words : 2 × 1
Monsoons are not equally distributed. Coastal areas like Kerala, West Bengal and Odisha receive _____ rainfall, whereas Interior regions like Haryana, Madhya Pradesh receive _____ rainfall.
उपयुक्त शब्दों की सहायता से निम्नलिखित वाक्य को पूरा कीजिए :
मानसून समान रूप से वितरित नहीं हैं । केरल, पश्चिम बंगाल और ओडिशा जैसे तटीय क्षेत्र _____ वर्षा प्राप्त करते हैं, जबकि हरियाणा, मध्य प्रदेश जैसे आंतरिक क्षेत्रों में _____ वर्षा प्राप्त होती है ।
29. Complete the following sentence with the help of suitable words : 2 × 1
Indian Constitution provides legal remedies for the protection of our fundamental rights. This is called the Right to _____ given in article _____ of the Constitution.
उपयुक्त शब्दों की सहायता से निम्नलिखित वाक्य को पूरा कीजिए :
भारतीय संविधान हमारे मूलाधिकारों के संरक्षण के लिए कानूनी उपचार प्रदान करता है । इसे _____ का अधिकार कहा जाता है जो संविधान के अनुच्छेद _____ में दिया गया है ।
30. Complete the following sentence with the help of suitable words : 2 × 1
In India the Chief Justice and Judges of High Courts are appointed by the _____. For the appointment of the Chief Justice of each High Court, the President takes the advice of the Chief Justice of _____ .

उपयुक्त शब्दों की सहायता से निम्नलिखित वाक्य को पूरा कीजिए :

भारत में उच्च न्यायालयों के मुख्य न्यायाधीश तथा न्यायाधीशों की नियुक्ति _____ के द्वारा होती है ।
प्रत्येक उच्च न्यायालय के मुख्य न्यायाधीश की नियुक्ति के लिए राष्ट्रपति _____ के मुख्य न्यायाधीश की सलाह लेते हैं ।

31. Fill in the blanks : 2 × 1

- (a) The Judges of High Court hold office till they attain the age of _____ .
(b) The members of the Council of Ministers are appointed by the _____ on the recommendations of the Prime Minister.

रिक्त स्थानों की पूर्ति कीजिए :

- (a) उच्च न्यायालय के न्यायाधीश _____ की आयु तक अपने पद पर बने रहते हैं ।
(b) मंत्रिपरिषद के सदस्यों की नियुक्ति प्रधानमंत्री की सलाह पर _____ द्वारा की जाती है ।

32. Complete the following sentence with the help of suitable words : 2 × 1

The _____, headed by the Prime Minister plays an important role in the proclamation of emergency. The President can issue a proclamation only when such a decision has been communicated to him/her in writing by the Union Cabinet headed by the _____ .

उपयुक्त शब्दों की सहायता से निम्नलिखित वाक्य को पूरा कीजिए :

प्रधानमंत्री की अध्यक्षता में _____ आपातकाल घोषित करने में महत्वपूर्ण भूमिका निभाती है । राष्ट्रपति ऐसी घोषणा केवल तब ही कर सकता है जब _____ के नेतृत्व में मंत्रिपरिषद इस आशय का निर्णय लिखित रूप में उस तक पहुँचाती है ।

33. Complete the following sentence with the help of suitable words : 2 × 1

The President is indirectly elected by an _____ which consists of the _____ members of the two houses of the Parliament as well as of the State Legislative Assemblies.

उपयुक्त शब्दों की सहायता से निम्नलिखित वाक्य को पूरा कीजिए :

राष्ट्रपति का अप्रत्यक्ष चुनाव एक _____ द्वारा किया जाता है जिसमें संसद के दोनों सदनों के तथा राज्य विधान-सभाओं के _____ सदस्य सम्मिलित होते हैं ।

34. Complete the following sentence with the help of suitable words : 2 × 1
The _____, grants _____ to the political parties and the candidates who contest elections.

उपयुक्त शब्दों की सहायता से निम्नलिखित वाक्य को पूरा कीजिए :

_____, राजनीतिक दलों और चुनाव लड़ने वाले उम्मीदवारों को _____ प्रदान करता है ।

35. True or False : 2 × 1

(a) The Rashtriya Janata Dal was formed by Lalu Prasad Yadav in 1997.

(b) The Shivsena is a political party of Tamil Nadu.

सही या गलत :

(a) राष्ट्रीय जनता दल का गठन 1997 में लालू प्रसाद यादव ने किया ।

(b) शिवसेना तमिलनाडु राज्य की राजनीतिक पार्टी है ।

SECTION – B

खण्ड – ब

36. Explain one social and one religious cause of the revolt of 1857. 2

1857 के विद्रोह के एक सामाजिक और एक धार्मिक कारण को स्पष्ट कीजिए ।

37. Why did Mahatma Gandhi launch Non-Cooperation Movement in August, 1920 ?
Explain. 2

महात्मा गाँधी ने अगस्त, 1920 में असहयोग आन्दोलन क्यों प्रारम्भ किया ? स्पष्ट कीजिए ।

OR/अथवा

Why was Simon Commission boycotted by Indians ? Give two reasons.

साइमन कमीशन का भारतीयों ने बहिष्कार क्यों किया ? दो कारण बताओं ।

38. Explain two main factors affecting density of railways. 2

रेलवे के घनत्व को प्रभावित करने वाले दो मुख्य कारकों की व्याख्या कीजिए ।

39. Mention any two restrictions imposed on the Right to freedom. 2
स्वतंत्रता के अधिकार पर लगाये गये किन्हीं दो प्रतिबंधों का उल्लेख कीजिए ।

OR/अथवा

Explain any two provisions of the Right against exploitation.
शोषण के विरुद्ध अधिकार के किन्हीं दो प्रावधानों को स्पष्ट कीजिए ।

40. Explain any two major objectives of the Bhartiya Janata Party. 2
भारतीय जनता पार्टी के किन्हीं दो प्रमुख उद्देश्यों की व्याख्या कीजिए ।

41. What do you mean by Gross Domestic Product ? 2
सकल घरेलू उत्पाद से आप क्या समझते हैं ?

OR/अथवा

Explain the meaning of per capita income.
प्रति व्यक्ति आय का अर्थ स्पष्ट कीजिए ।

42. Mention any three impacts of Imperialism on India. 3
भारत पर साम्राज्यवाद के किन्हीं तीन प्रभावों का उल्लेख कीजिए ।

43. Explain any three differences between Himalayan and Peninsular drainage system. 3
हिमालयी और प्रायद्वीपीय नदी प्रणाली के बीच कोई तीन अन्तर स्पष्ट कीजिए ।

OR/अथवा

Explain any three main characteristics of Western Ghats.
पश्चिमी घाट की किन्हीं तीन प्रमुख विशेषताओं को स्पष्ट कीजिए ।

44. How many freedoms have been provided by the Indian Constitution in Article 19 ?
Explain any three. 3

भारतीय संविधान के अनुच्छेद 19 में कितनी स्वतन्त्रताएँ प्रदान की गयी हैं ? किन्हीं तीन का वर्णन कीजिए ।

OR/अथवा

How many fundamental rights are given to the Indian citizens by the Indian Constitution ? Explain any three.

भारतीय संविधान द्वारा भारतीय नागरिकों को कितने मौलिक अधिकार प्रदान किए गये हैं ? किन्हीं तीन का वर्णन कीजिए ।

45. Explain any three challenges faced by the Political Parties in India. 3

भारत में राजनीतिक दलों के सामने आने वाली किन्हीं तीन चुनौतियों की व्याख्या कीजिए ।

46. Suggest any three ways to strengthen Indian democracy. 3

भारतीय लोकतंत्र को मजबूत बनाने के लिए कोई तीन सुझाव दीजिए ।

OR/अथवा

Suggest any three ways to empower women.

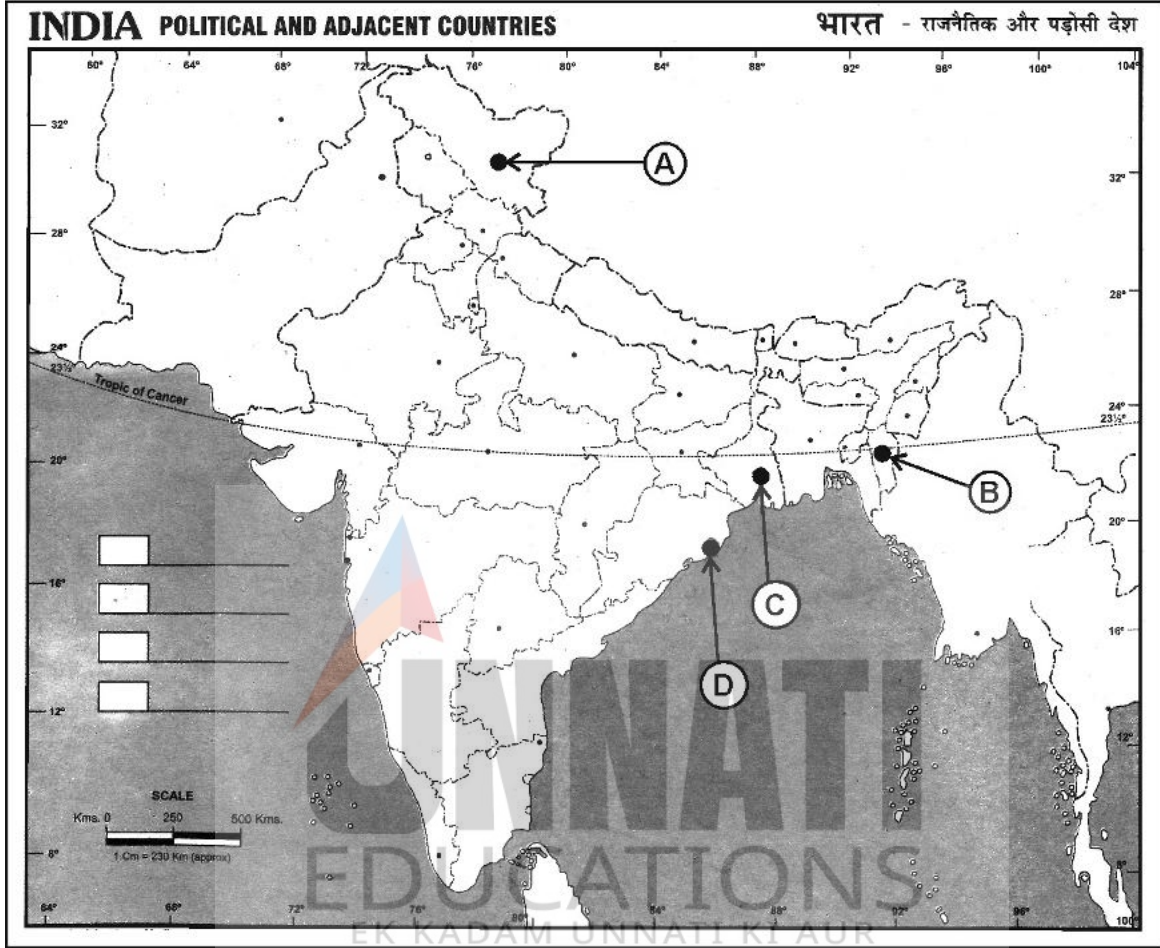
महिलाओं के सशक्तिकरण के लिए कोई तीन सुझाव दीजिए ।

47. Why has Government of India started National Rural Health Mission ? Explain. 3

भारत सरकार द्वारा राष्ट्रीय ग्रामीण स्वास्थ्य योजना क्यों लागू की गयी ? स्पष्ट कीजिए ।

48. The following four places related to the transportation facilities in India are marked as A, B, C and D on the given political outline map of India. Identify these places with the help of the following information and write their correct names on answer-book. 4

भारत के दिये गये राजनीतिक रेखा-मानचित्र पर भारत में परिवहन सुविधाओं से संबंधित निम्नलिखित चार स्थानों को A, B, C और D के रूप में चिह्नित किया गया है। निम्नलिखित जानकारी की सहायता से इन स्थानों को पहचाने और उत्तर-पुस्तिका में उनके सही नाम लिखिए।



- (A) The Northern most terminal station of the North-South Corridor
 (B) The Eastern most terminal station of the Golden Quadrilateral
 (C) An International airport situated in West Bengal
 (D) A major port situated in Odisha
- (A) उत्तर-दक्षिण गलियारे का सबसे उत्तर का टर्मिनल स्टेशन
 (B) स्वर्णिम चतुर्भुज का सबसे पूर्व का टर्मिनल स्टेशन
 (C) पश्चिम बंगाल में स्थित एक अन्तर्राष्ट्रीय हवाई-अड्डा
 (D) ओडिशा में स्थित एक प्रमुख बन्दरगाह

Note : Following questions are for **Visually Impaired** candidates only in lieu of question number **48** :

नोट : निम्नलिखित प्रश्न केवल **दृष्टिबाधित** परीक्षार्थियों के लिए प्रश्न संख्या **48** के स्थान पर हैं :

48. (A) Name the Northern most terminal station of North-South Corridor.
(B) Name the Eastern most terminal station of Golden Quadrilateral.
(C) Name the place where an International airport situated in West Bengal.
(D) Name the place where a major port situated in Odisha.
- (A) उत्तर-दक्षिण गलियारे के सबसे उत्तर में स्थित टर्मिनल स्टेशन का नाम लिखिए ।
(B) स्वर्णिम चतुर्भुज के सबसे पूर्वी टर्मिनल स्टेशन का नाम लिखिए ।
(C) उस स्थान का नाम लिखिए जहाँ पश्चिम बंगाल में एक अन्तर्राष्ट्रीय हवाई-अड्डा स्थित है ।
(D) उस स्थान का नाम लिखिए जहाँ ओडिशा में एक प्रमुख बंदरगाह स्थित है ।

49. In the given political outline map of India, mark and label the following with appropriate symbols :

4

- (A) Rajiv Gandhi International Airport
(B) A major port situated in Andhra Pradesh
(C) The Vindhyaachal Parvat
(D) The Western most terminal station of Golden Quadrilateral

भारत के दिये गये राजनीतिक रेखा-मानचित्र पर निम्नलिखित को उपयुक्त चिहनों द्वारा अंकित कीजिए और उनके नाम लिखिए :

- (A) राजीव गाँधी अन्तर्राष्ट्रीय हवाई-अड्डा
(B) आन्ध्र प्रदेश में स्थित एक प्रमुख बन्दरगाह
(C) विन्ध्याचल पर्वत
(D) स्वर्णिम चतुर्भुज का सबसे पश्चिम का टर्मिनल स्टेशन

Note : Following questions are for **Visually Impaired** candidates only in lieu of question number **49** :

नोट : निम्नलिखित प्रश्न केवल **दृष्टिबाधित** परीक्षार्थियों के लिए प्रश्न संख्या **49** के स्थान पर हैं :

49. (A) Write the name of the place where is Rajiv Gandhi International Airport situated.
(B) Name the major port situated in Andhra Pradesh.
(C) Where is Vindhyaachal Parvat situated ?
(D) Name the Western most terminal station of Golden Quadrilateral.
- (A) उस स्थान का नाम लिखें जहाँ राजीव गाँधी अन्तर्राष्ट्रीय हवाई-अड्डा स्थित है ।
(B) आन्ध्र प्रदेश में स्थित प्रमुख बन्दरगाह का नाम लिखिए ।
(C) विन्ध्याचल पर्वत कहाँ स्थित है ?
(D) स्वर्णिम चतुर्भुज के सबसे पश्चिमी टर्मिनल स्टेशन का नाम लिखिए ।

50. How did the socio-religious reform movements lead to the Indian National Movement ?
Explain in six points. 6

सामाजिक-धार्मिक सुधार आन्दोलनों ने किस प्रकार भारतीय राष्ट्रीय आन्दोलन का नेतृत्व किया ? किन्हीं छः बिन्दुओं में स्पष्ट कीजिए ।

OR/अथवा

Who introduced English education among the Muslims ? Explain in six points his/her contribution in this area.

मुसलमानों में अंग्रेजी की शिक्षा किसने शुरू की ? इस क्षेत्र में उनके योगदान को छः बिन्दुओं में स्पष्ट कीजिए ।

51. Explain any six functions of the Political Parties in India.

6

भारत में राजनीतिक दलों के किन्हीं छः कार्यों की व्याख्या कीजिए ।

OR/अथवा

What are Civil Society Organizations ? Write the names of any four contemporary Civil Society Organizations in India.

सिविल सोसाइटी संगठन क्या हैं ? भारत के किन्हीं चार समकालीन सिविल सोसाइटी संगठनों के नाम लिखिए ।



यहाँ से काटें

Cut Here

यहाँ से काटें

Cut Here

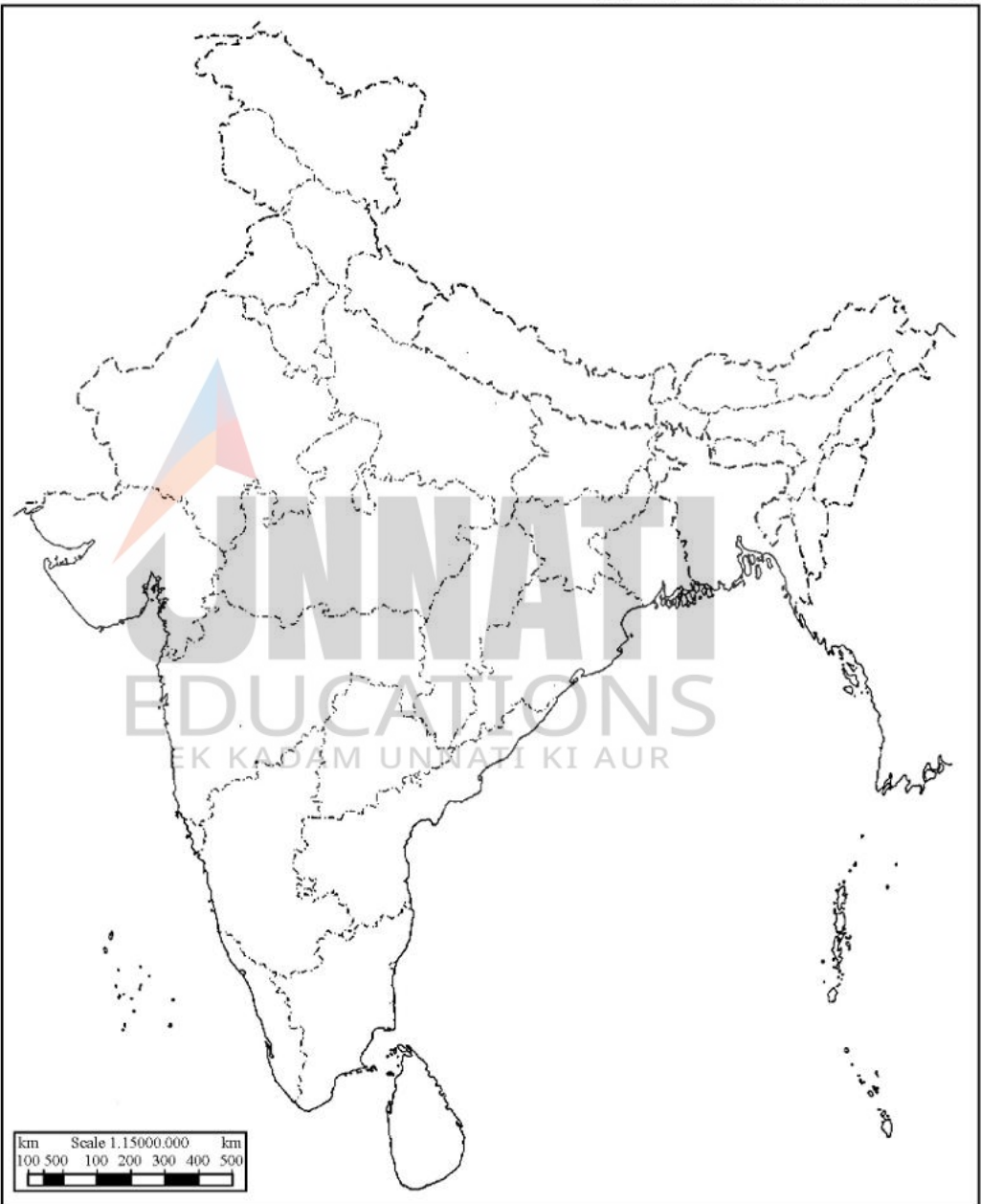
Map for Q. No. 49
प्रश्न सं. 49 के लिए रेखा-मानचित्र

Roll No.

--	--	--	--	--	--	--	--	--	--	--	--	--	--	--	--	--	--	--	--

रोल नं.

Political Outline Map of India
भारत का राजनीतिक रेखा-मानचित्र





70/OS/2/213-A

24

UNNATI EDUCATION
9899-436-384: 9654-279-279

This Question Paper consists of **51** questions and **22** printed pages + One Outline Map of **India**.
इस प्रश्न-पत्र में **51** प्रश्न तथा **22** मुद्रित पृष्ठ + **भारत** का एक रेखा-मानचित्र है।

Roll No.

--	--	--	--	--	--	--	--	--	--	--

अनुक्रमांक

9013B

SOCIAL SCIENCE
सामाजिक विज्ञान
(213)

Code No. **70/OS/2**
कोड नं.

SET/सेट

B

Day and Date of Examination
(परीक्षा का दिन व दिनांक)

Signature of Invigilators 1.
(निरीक्षकों के हस्ताक्षर)
2.

General Instructions :

1. Candidate must write his/her Roll Number on the first page of the Question Paper.
2. Please check the Question Paper to verify that the total pages and the total number of questions contained in the Question Paper are the same as those printed on the top of the first page. Also check to see that the questions are in sequential order.
3. For the objective type of questions, you have to choose any **one** of the four alternatives given in the question i.e. (A), (B), (C) or (D) and indicate your correct answer in the Answer-Book given to you.
4. All the questions including objective-type questions are to be answered within the allotted time and no separate time limit is fixed for answering objective-type questions.
5. Making any identification mark in the Answer-Book or writing Roll Number anywhere other than the specified places will lead to disqualification of the candidate.
6. Write your Question Paper Code No. **70/OS/2, Set B** on the Answer-Book.
7. (a) The Question Paper is in English/Hindi medium only. However, if you wish, you can answer in any **one** of the languages listed below :
English, Hindi, Urdu, Punjabi, Bengali, Tamil, Malayalam, Kannada, Telugu, Marathi, Odia, Gujarati, Konkani, Manipuri, Assamese, Nepali, Kashmiri, Sanskrit and Sindhi.
You are required to indicate the language you have chosen to answer in the box provided in the Answer-Book.
(b) If you choose to write the answer in the language other than Hindi and English, the responsibility for any errors/mistakes in understanding the questions will be yours only.



70/OS/2/213-B

सामान्य अनुदेश :

1. परीक्षार्थी प्रश्न-पत्र के पहले पृष्ठ पर अपना अनुक्रमांक अवश्य लिखें ।
2. कृपया प्रश्न-पत्र को जाँच लें कि प्रश्न-पत्र के कुल पृष्ठों तथा प्रश्नों की उतनी ही संख्या है जितनी प्रथम पृष्ठ के सबसे ऊपर छपी है । इस बात की जाँच भी कर लें कि प्रश्न क्रमिक रूप में हैं ।
3. वस्तुनिष्ठ प्रश्नों में आपको चार विकल्पों (A), (B), (C) अथवा (D) में से कोई एक उत्तर चुनना है तथा दी गई उत्तर-पुस्तिका में आप सही उत्तर लिखिए ।
4. वस्तुनिष्ठ प्रश्नों के साथ-साथ सभी प्रश्नों के उत्तर निर्धारित अवधि के भीतर ही देने हैं । वस्तुनिष्ठ प्रश्नों के लिए अलग से समय नहीं दिया जाएगा ।
5. उत्तर-पुस्तिका में पहचान-चिह्न बनाने अथवा निर्दिष्ट स्थानों के अतिरिक्त कहीं भी अनुक्रमांक लिखने पर परीक्षार्थी को अयोग्य ठहराया जायेगा ।
6. अपनी उत्तर-पुस्तिका पर प्रश्न-पत्र की कोड संख्या 70/OS/2, सेट **B** लिखें ।
7. (क) प्रश्न-पत्र केवल अंग्रेजी/हिंदी माध्यम में है । फिर भी, यदि आप चाहें तो नीचे दी गई किसी एक भाषा में उत्तर दे सकते हैं :
अंग्रेजी, हिंदी, उर्दू, पंजाबी, बंगला, तमिल, मलयालम, कन्नड़, तेलुगू, मराठी, उड़िया, गुजराती, कोंकणी, मणिपुरी, असमिया, नेपाली, कश्मीरी, संस्कृत और सिंधी ।
कृपया उत्तर-पुस्तिका में दिए गए बॉक्स में लिखें कि आप किस भाषा में उत्तर लिख रहे हैं ।
(ख) यदि आप हिंदी एवं अंग्रेजी के अतिरिक्त किसी अन्य भाषा में उत्तर लिखते हैं, तो प्रश्नों को समझने में होने वाली त्रुटियों/गलतियों की जिम्मेदारी केवल आपकी होगी ।

General Instruction / सामान्य अनुदेश :

In case of any doubt or confusion in the question paper, the English Version will prevail.

प्रश्न-पत्र में किसी भी प्रकार के संदेह अथवा दुविधा की स्थिति में अंग्रेजी अनुवाद ही मान्य होगा ।

General Instruction / सामान्य अनुदेश :

1. Answers of **all** questions are to be given in the Answer-Book given to you.
सभी प्रश्नों के उत्तर आपको दी गयी उत्तर-पुस्तिका में ही लिखें ।
2. **15 minutes** time has been allotted to read this Question Paper. The question paper will be distributed at **02.15 p.m.** From **02.15 p.m.** to **02.30 p.m.**, the students will read the question paper only and will not write any answer on the Answer-Book during this period.
इस प्रश्न-पत्र को पढ़ने के लिए **15 मिनट** का समय दिया गया है । प्रश्न-पत्र का वितरण दोपहर में **02.15 बजे** किया जाएगा । दोपहर **02.15 बजे** से **02.30 बजे** तक छात्र केवल प्रश्न-पत्र को पढ़ेंगे और इस अवधि के दौरान वे उत्तर-पुस्तिका पर कोई उत्तर नहीं लिखेंगे ।

SOCIAL SCIENCE

सामाजिक विज्ञान

(213)

Time : 3 Hours]

[Maximum Marks : 100

समय : 3 घण्टे]

[पूर्णांक : 100

Note : (i) This Question Paper consists of **51** questions in all.

(ii) **All** questions are compulsory.

(iii) Marks are given against each question.

(iv) **Section – A** consists of :

(a) **Q. No. 1 to 20** – Multiple Choice Type Questions (MCQs) carrying **1** mark each. Select and write the most appropriate option out of the four options given in each of these questions.

(b) **Q. No. 21 to 35** – Objective type questions carrying **2** marks each (with **2** sub-parts of **1** mark each and **4** sub parts of $\frac{1}{2}$ mark each). Attempt these questions as per the instructions given for each of the questions.

Section – B consists of :

(c) **Q. No. 36 to 41** – Very Short Answer type questions carrying **2** marks each to be answered in the range of **30** to **50** words. Attempt these questions as per the instructions given for each of the questions.

(d) **Q. No. 42 to 47** – Short Answer type questions carrying **3** marks each to be answered in the range of **50** to **80** words.

(e) **Q. No. 48 and 49** – Skill (Map) based questions carrying **4** marks each. (Alternative questions are given in lieu of map based questions for Visually impaired students.)

(f) **Q. No. 50 and 51** – Long Answer type questions carrying **6** marks each to be answered in **80** to **120** words.

निर्देश : (i) इस प्रश्न-पत्र में कुल 51 प्रश्न हैं ।

(ii) सभी प्रश्न अनिवार्य हैं ।

(iii) सभी प्रश्नों के अंक उनके साथ दिये गये हैं ।

(iv) खण्ड - अ के प्रश्न इस प्रकार हैं :

(a) प्र.सं. 1 से 20 तक – 1 अंक वाले बहुविकल्पीय प्रकार के प्रश्न हैं । इन प्रश्नों में दिये गये चार विकल्पों में से सर्वाधिक उपयुक्त विकल्प को चुनें तथा लिखें ।

(b) प्र.सं. 21 से 35 तक – 2 अंक वाले वस्तुनिष्ठ प्रकार के प्रश्न हैं (इनमें से कुछ प्रश्नों में प्रत्येक 1 अंक के 2 उप-भागों और प्रत्येक ½ अंक के 4 उप-भागों के साथ)। इन प्रश्नों का उत्तर प्रश्नों के साथ दिये गये निर्देशों के अनुसार दीजिये ।

खण्ड - ब के प्रश्न इस प्रकार हैं :

(c) प्र.सं. 36 से 41 तक – 2 अंक वाले अति-लघूत्तरीय प्रकार के प्रत्येक प्रश्न का उत्तर 30 से 50 शब्दों में दीजिये । इन प्रश्नों का उत्तर प्रश्नों के साथ दिये गये निर्देशों के अनुसार दें ।

(d) प्र.सं. 42 से 47 तक – 3 अंक वाले लघूत्तरीय प्रकार के प्रत्येक प्रश्न का उत्तर 50 से 80 शब्दों में दीजिए ।

(e) प्र.सं. 48 एवं 49 – कौशल (मानचित्र) पर आधारित 4 अंक वाले प्रश्न हैं । (दृष्टिबाधित छात्रों हेतु मानचित्र पर आधारित प्रश्नों के स्थान पर वैकल्पिक प्रश्न दिये गये हैं ।)

(f) प्र.सं. 50 एवं 51 – 6 अंक वाले दीर्घोत्तरीय प्रकार के प्रत्येक प्रश्न का उत्तर 80 से 120 शब्दों में दें ।

SECTION – A

खण्ड – अ

1. Who amongst the following was the leader of Wahabi Movement ? 1
(A) Shariatullah Khan (B) Syed Ahmed Barelvi
(C) Shah Waliullah (D) Dadu Mian
निम्नलिखित में से कौन वहाबी आन्दोलन के नेता थे ?
(A) शरीयतुल्लाह खान (B) सैयद अहमद बरेलवी
(C) शाह वलीउल्लाह (D) दादू मियां
2. In which one of the following years Gandhiji suspended his Non-Cooperation Movement after Chauri-Chaura Incident ? 1
(A) 1932 (B) 1922
(C) 1942 (D) 1912
निम्नलिखित में से किस वर्ष गाँधीजी ने चौरी-चौरा घटना के बाद अपने असहयोग आंदोलन को स्थगित कर दिया ?
(A) 1932 (B) 1922
(C) 1942 (D) 1912
3. Who amongst the following invented the first electric motor ? 1
(A) Michael Faraday (B) George Stephenson
(C) Henry Cort (D) Samuel Slator
निम्नलिखित में से किसने पहली इलेक्ट्रिक मोटर का आविष्कार किया था ?
(A) माइकल फैराडे (B) जॉर्ज स्टीफेंसन
(C) हेनरी कर्ट (D) सैमुअल स्लेटर
4. Who amongst the following started the Khilafat Movement against the British Government ? 1
(A) Gandhiji and Pt. Jawaharlal Nehru
(B) Bal Gangadhar Tilak and Sardar Patel
(C) Shoukat Ali and Mohammad Ali
(D) Lala Lajpat Rai and Bipin Chandra Pal
निम्नलिखित में से किसने ब्रिटिश सरकार के खिलाफ खिलाफत आन्दोलन शुरू किया ?
(A) गाँधीजी और पं. जवाहरलाल नेहरू (B) बाल गंगाधर तिलक और सरदार पटेल
(C) शौकत अली और मोहम्मद अली (D) लाला लाजपत राय और बिपिनचन्द्र पाल

5. Which one of the following is the main goal of the 'Literacy Mission' in India ? 1

- (A) To build more schools (B) To promote higher education
(C) To educate adults and children (D) To train teachers

निम्नलिखित में से भारत में 'साक्षरता मिशन' का मुख्य लक्ष्य कौन सा है ?

- (A) अधिक स्कूल बनाना (B) उच्च शिक्षा को बढ़ावा
(C) वयस्कों और बच्चों को शिक्षित करना (D) शिक्षकों को प्रशिक्षित करना

6. In which one of the following years the Fourth Anglo war ended ? 1

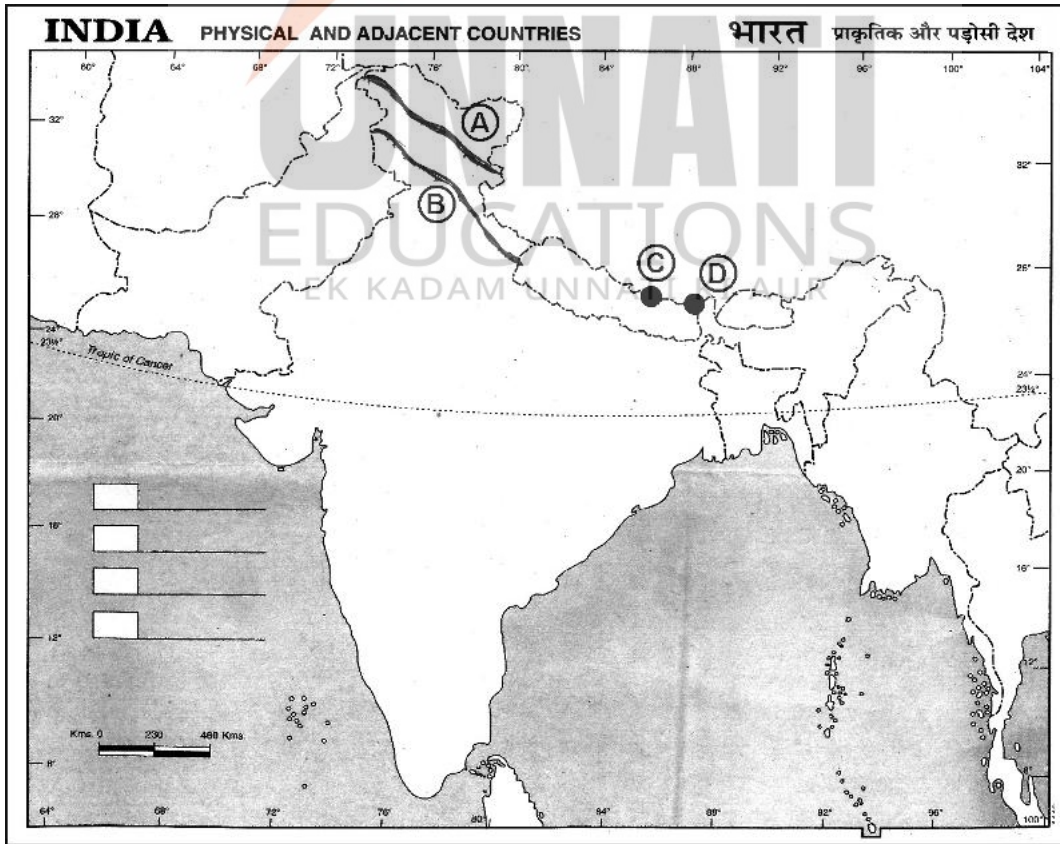
- (A) 1899 (B) 1799
(C) 1699 (D) 1599

निम्नलिखित में से किस वर्ष में चौथा आंग्ल युद्ध समाप्त हुआ ?

- (A) 1899 (B) 1799
(C) 1699 (D) 1599

Study the given map and answer the questions number 7 to 10.

दिए गए मानचित्र का अध्ययन कीजिए और प्रश्न संख्या 7 से 10 तक का उत्तर दीजिए ।



70/OS/2/213-B

6

7. Identify the mountain range marked as 'A' in the map. 1
- (A) Zaskar Range (B) Pirpanjal Range
(C) Karakoram Range (D) Shiwalik Range
- मानचित्र में 'A' के रूप में चिह्नित पर्वत शृंखला की पहचान कीजिए ।
- (A) जास्कर श्रेणी (B) पीरपंजाल श्रेणी
(C) कराकोरम श्रेणी (D) शिवालिक श्रेणी
8. Identify the mountain range marked as 'B' in the map. 1
- (A) Zaskar Range (B) Ladakh Range
(C) Pirpanjal Range (D) Karakoram Range
- मानचित्र में 'B' के रूप में चिह्नित पर्वत शृंखला की पहचान कीजिए ।
- (A) जास्कर श्रेणी (B) लद्दाख श्रेणी
(C) पीरपंजाल श्रेणी (D) कराकोरम श्रेणी
9. Identify the mountain peak marked as 'C' in the map. 1
- (A) Kanchenjunga (B) Mount Everest
(C) Makalu (D) Annapurna
- मानचित्र में 'C' के रूप में चिह्नित पर्वत-शिखर की पहचान कीजिए ।
- (A) कंचनजंगा (B) माउंट एवरेस्ट
(C) मकालू (D) अन्नपूर्णा
10. Identify the mountain peak marked as 'D' in the map. 1
- (A) Kanchenjunga (B) Namcha Barwa
(C) Nanda Devi (D) Dhaulagiri
- मानचित्र में 'D' के रूप में चिह्नित पर्वत-शिखर की पहचान कीजिए ।
- (A) कंचनजंगा (B) नामचा बरवा
(C) नंदा देवी (D) धौलागिरि

Note : Following questions are for **Visually Impaired** candidates only in lieu of Q. No. 7 to 10.

नोट : निम्नलिखित प्रश्न केवल **दृष्टिबाधित** परीक्षार्थियों के लिए प्रश्न संख्या 7 से 10 के स्थान पर है ।

7. Which is the outermost range of the Himalayas ? 1

- (A) Karakoram Range (B) Ladakh Range
(C) Shiwalik Range (D) Zaskar Range

हिमालय की सबसे बाह्य पर्वत-श्रेणी कौन सी है ?

- (A) कराकोरम श्रेणी (B) लद्दाख श्रेणी
(C) शिवालिक श्रेणी (D) जास्कर श्रेणी

8. How many parallel mountain ranges are the Himalayas divided into ? 1

- (A) Three (B) Two
(C) Four (D) Five

हिमालय को कितनी समानान्तर पर्वत श्रेणियों में विभाजित किया जाता है ?

- (A) तीन (B) दो
(C) चार (D) पाँच

9. Which is the highest peak of Himalayas in India ? 1

- (A) Kanchenjunga (B) Makalu
(C) Nanga Parvat (D) Dhaulagiri

भारत में हिमालय की सबसे ऊँची पर्वत चोटी कौन सी है ?

- (A) कंचनजंगा (B) मकालू
(C) नंगा पर्वत (D) धौलागिरि

10. Which one from the following is the highest peak of the Aravalli mountain ? 1

- (A) Gurushikhar (B) Mahendragiri
(C) Anaimudi (D) Dodabetta

निम्न में से अरावली पर्वत की सबसे ऊँची चोटी कौन सी है ?

- (A) गुरुशिखर (B) महेन्द्रगिरि
(C) अनाईमुडी (D) डोडाबेटा

11. Who amongst the following founded the 'Poona Sarvajanik Sabha' and the 'Prarthna Samaj' in 1867 ? 1

- (A) Justice Mahadev Govind Ranade
- (B) Pandita Ramabai
- (C) Ishwar Chandra Vidyasagar
- (D) Swami Dayanand Saraswati

निम्नलिखित में से किसने 1867 में 'पूना सार्वजनिक सभा' और 'प्रार्थना-समाज' की स्थापना की ?

- (A) न्यायमूर्ति महादेव गोंविद रानाडे
- (B) पंडिता रमाबाई
- (C) ईश्वरचन्द्र विद्यासागर
- (D) स्वामी दयानन्द सरस्वती

12. Which of the following is an important factor in reducing regional imbalance ? 1

- (A) Increase in migration
- (B) Delay in programs
- (C) Development in infrastructure
- (D) One-sided planning

निम्नलिखित में से कौन सा क्षेत्रीय असंतुलन को कम करने का एक महत्वपूर्ण कारक है ?

- (A) शहरीकरण में तेजी
- (B) कार्यक्रमों में देरी
- (C) संरचनात्मक विकास
- (D) एक-तरफा योजना

13. Who amongst the following established the 'Arya Samaj' in 1875 ? 1

- (A) Keshab Chandra Sen
- (B) Swami Dayanand Saraswati
- (C) Swami Vivekanand
- (D) Bal Gangadhar Tilak

निम्नलिखित में से किसने 1875 में 'आर्य समाज' की स्थापना की ?

- (A) केशवचंद्र सेन
- (B) स्वामी दयानंद सरस्वती
- (C) स्वामी विवेकानंद
- (D) बाल गंगाधर तिलक

14. Which of the following best describes the meaning of literacy ? 1
- (A) Ability to speak in English
(B) Ability to read and write
(C) Ability to use a computer
(D) Ability to solve maths problem
- निम्नलिखित में से साक्षरता का सही अर्थ क्या है ?
- (A) अंग्रेजी बोलने की क्षमता
(B) पढ़ने और लिखने की क्षमता
(C) कम्प्यूटर चलाने की क्षमता
(D) गणित के प्रश्न हल करने की क्षमता
15. Which one of the following is **not** a tributary of river Godavari ? 1
- (A) Pranahita (B) Indravati
(C) Purna (D) Mahi
- निम्नलिखित में से कौन सी नदी गोदावरी नदी की सहायक नदी **नहीं** है ?
- (A) प्राणहिता (B) इंद्रावती
(C) पूर्णा (D) माही
16. Which one of the following lake is situated on the coast of Malabar ? 1
- (A) Chilka (B) Sambhar
(C) Dal (D) Vembanad
- निम्नलिखित में से कौन सी झील मालाबार के तट पर स्थित है ?
- (A) चिल्का (B) सांभर
(C) डल (D) विम्बनाद
17. Who amongst the following Manipuri woman was against Armed Forces Special Power Act ? 1
- (A) Aruna Roy (B) Yousaf Zai
(C) Irom Sharmila (D) Sharada Mehta
- आर्म्ड फोर्सेज स्पेशल पावर एक्ट के खिलाफ निम्नलिखित में मणिपुरी महिला कौन थी ?
- (A) अरुणा राय (B) यूसफ जई
(C) इरोम शर्मिला (D) शारदा मेहता

18. Which one of following line divides India into two equal parts ? 1
(A) Tropic of Cancer (B) Tropic of Capricorn
(C) Prime Meridian (D) Tropic of Antarctica
निम्नलिखित में से कौन सी रेखा भारत को दो बराबर भागों में बाँटती है ?
(A) कर्क वृत्त (B) मकर वृत्त
(C) प्रधान मध्याह्न (D) अंटार्कटिक वृत्त
19. Which party system do India follow ? 1
(A) One party system (B) Two party system
(C) Multi party system (D) No party system
भारत किस दलीय प्रणाली का पालन करता है ?
(A) एक-दलीय प्रणाली (B) द्वि-दलीय प्रणाली
(C) बहु-दलीय प्रणाली (D) कोई दलीय प्रणाली नहीं
20. Which one of the following rivers is **not** the tributary of river Brahmaputra ? 1
(A) Dibang (B) Kosi
(C) Lohit (D) Meghna
निम्नलिखित में से कौन सी नदी ब्रह्मपुत्र नदी की सहायक नदी नहीं है ?
(A) दिबांग (B) कोसी
(C) लोहित (D) मेघना
21. Complete the following sentence with the help of any one from given options : 2 × 1
The Bolshevik Party headed by _____ organised the Soviet Revolution in _____.
Option :
(A) Bismarck, October 1920 (B) Lenin, October 1917
(C) Napoleon, October 1922 (D) Marx, October 1918
दिये गये विकल्पों में से किसी एक की सहायता से निम्नलिखित वाक्य को पूरा कीजिए :
_____ के नेतृत्व में बोल्शेविक पार्टी ने _____ में सोवियत क्रांति का आयोजन किया ।
विकल्प :
(A) बिस्मार्क, अक्टूबर 1920 (B) लेनिन, अक्टूबर 1917
(C) नेपोलियन, अक्टूबर 1922 (D) मार्क्स, अक्टूबर 1918

22. Complete the following sentence with the help of suitable words : 2 × 1

Monsoons are not equally distributed. Coastal areas like Kerala, West Bengal and Odisha receive _____ rainfall, whereas Interior regions like Haryana, Madhya Pradesh receive _____ rainfall.

उपयुक्त शब्दों की सहायता से निम्नलिखित वाक्य को पूरा कीजिए :

मानसून समान रूप से वितरित नहीं हैं। केरल, पश्चिम बंगाल और ओडिशा जैसे तटीय क्षेत्र _____

वर्षा प्राप्त करते हैं, जबकि हरियाणा, मध्य प्रदेश जैसे आंतरिक क्षेत्रों में _____ वर्षा प्राप्त होती है।

23. True or False : 2 × 1

(a) The Rashtriya Janata Dal was formed by Lalu Prasad Yadav in 1997.

(b) The Shivsena is a political party of Tamil Nadu.

सही या गलत :

(a) राष्ट्रीय जनता दल का गठन 1997 में लालू प्रसाद यादव ने किया।

(b) शिवसेना तमिलनाडु राज्य की राजनीतिक पार्टी है।

24. Match the Column A with Column B correctly. 4 × ½

Column A

Column B

(a) Ahmadiya Movement (i) 1856

(b) Mohammedan Literacy Society (ii) 1875

(c) Aligarh Muslim University (iii) 1899

(d) Hindu Widow Re-marriage Act (iv) 1863

(v) 1873

स्तंभ A का सही मिलान स्तंभ B से कीजिए ।

स्तंभ A	स्तंभ B
(a) अहमदिया आन्दोलन	(i) 1856
(b) मोहम्मदन साक्षरता सोसाइटी	(ii) 1875
(c) अलीगढ़ मुस्लिम विश्वविद्यालय	(iii) 1899
(d) हिन्दू विधवा पुनर्विवाह अधिनियम	(iv) 1863
	(v) 1873

25. Match the Column A with Column B correctly.

4 × ½

Column A (Scholar)	Column B (Discovery)
(a) Samuel Crompton	(i) Electric Motor
(b) John Wilkinson	(ii) Spinning Mule
(c) George Stephenson	(iii) Drilling Machine
(d) Michael Faraday	(iv) Locomotive Engine
	(v) Telephone

स्तंभ A का सही मिलान स्तंभ B से कीजिए ।

स्तंभ A (वैज्ञानिक)	स्तंभ B (खोज)
(a) सैमुअल क्रॉम्पटन	(i) इलेक्ट्रिक मोटर
(b) जॉन विल्किन्सन	(ii) स्पिनिंग म्यूल
(c) जॉर्ज स्टीफेंसन	(iii) ड्रिलिंग मशीन
(d) माइकल फैराडे	(iv) लोकोमोटिव इंजन
	(v) टेलीफोन

26. Complete the following sentence : 2 × 1
In September, 1873 _____ Phule along his followers formed the _____ .
निम्नलिखित वाक्य पूरा कीजिए :
सितम्बर, 1873 में _____ फूले ने अपने अनुयायियों के साथ _____ का गठन किया ।
27. Complete the following sentence with the help of suitable words : 2 × 1
The Indian Desert spreads over the states of _____ and Rajasthan. This region has _____ and arid weather conditions.
उपयुक्त शब्दों की सहायता से निम्नलिखित वाक्य को पूरा कीजिए :
भारतीय रेगिस्तान _____ और राजस्थान राज्यों में फैला हुआ है । इस क्षेत्र में _____ और शुष्क मौसम की स्थिति है ।
28. Complete the following sentence with the help of suitable words : 2 × 1
In India the Chief Justice and Judges of High Courts are appointed by the _____ . For the appointment of the Chief Justice of each High Court, the President takes the advice of the Chief Justice of _____ .
उपयुक्त शब्दों की सहायता से निम्नलिखित वाक्य को पूरा कीजिए :
भारत में उच्च न्यायालयों के मुख्य न्यायाधीश तथा न्यायाधीशों की नियुक्ति _____ के द्वारा होती है । प्रत्येक उच्च न्यायालय के मुख्य न्यायाधीश की नियुक्ति के लिए राष्ट्रपति _____ के मुख्य न्यायाधीश की सलाह लेते हैं ।
29. Complete the following sentence with the help of suitable words : 2 × 1
(a) The lower house of Parliament is called as _____ .
(b) The upper house of Parliament is called as _____ .
उपयुक्त शब्दों की सहायता से निम्नलिखित वाक्य को पूरा कीजिए :
(a) संसद का निचला सदन _____ कहलाता है ।
(b) संसद का उच्च सदन _____ कहलाता है ।

30. Complete the following sentence with the help of suitable words : 2 × 1
- The President is indirectly elected by an _____ which consists of the _____ members of the two houses of the Parliament as well as of the State Legislative Assemblies.
- उपयुक्त शब्दों की सहायता से निम्नलिखित वाक्य को पूरा कीजिए :
- राष्ट्रपति का अप्रत्यक्ष चुनाव एक _____ द्वारा किया जाता है जिसमें संसद के दोनों सदनों के तथा राज्य विधान-सभाओं के _____ सदस्य सम्मिलित होते हैं ।
31. Complete the following sentence with the help of suitable words : 2 × 1
- The _____, grants _____ to the political parties and the candidates who contest elections.
- उपयुक्त शब्दों की सहायता से निम्नलिखित वाक्य को पूरा कीजिए :
- _____, राजनीतिक दलों और चुनाव लड़ने वाले उम्मीदवारों को _____ प्रदान करता है ।
32. Complete the following sentence with the help of suitable words : 2 × 1
- The _____ is at the apex of the unified Judiciary of India. The Chief Justice and other judges are appointed by the _____.
- उपयुक्त शब्दों की सहायता से निम्नलिखित वाक्य को पूरा कीजिए :
- _____ भारत की एकीकृत न्यायपालिका के शीर्ष पर है । मुख्य न्यायाधीश तथा अन्य न्यायाधीशों की नियुक्ति _____ करता है ।
33. Fill in the blanks : 2 × 1
- (a) The Judges of High Court hold office till they attain the age of _____ .
- (b) The members of the Council of Ministers are appointed by the _____ on the recommendations of the Prime Minister.
- रिक्त स्थानों की पूर्ति कीजिए :
- (a) उच्च न्यायालय के न्यायाधीश _____ की आयु तक अपने पद पर बने रहते हैं ।
- (b) मंत्रिपरिषद के सदस्यों की नियुक्ति प्रधानमंत्री की सलाह पर _____ द्वारा की जाती है ।

34. Complete the following sentence with the help of suitable words : 2 × 1

The _____, headed by the Prime Minister plays an important role in the proclamation of emergency. The President can issue a proclamation only when such a decision has been communicated to him/her in writing by the Union Cabinet headed by the _____ .

उपयुक्त शब्दों की सहायता से निम्नलिखित वाक्य को पूरा कीजिए :

प्रधानमंत्री की अध्यक्षता में _____ आपातकाल घोषित करने में महत्वपूर्ण भूमिका निभाती है । राष्ट्रपति ऐसी घोषणा केवल तब ही कर सकता है जब _____ के नेतृत्व में मंत्रिपरिषद इस आशय का निर्णय लिखित रूप में उस तक पहुँचाती है ।

35. Identify True or False : 2 × 1

- (a) James Hargreaves invented a hand powered spinning wheel (the spinning Jenny).
(b) The League of Nations was the first International organisation setup in 1936 with its headquarters at Geneva.

सही या गलत की पहचान कीजिए :

- (a) जेम्स हरग्रीव्स ने 'एक हाथ संचालित चरखा' (स्पिनिंग जेनी) का आविष्कार किया ।
(b) लीग ऑफ नेशन्स 1936 में स्थापित पहला अंतर्राष्ट्रीय संगठन था जिसका मुख्यालय जिनेवा में था ।

SECTION – B

खण्ड – ब

36. Explain two main factors affecting density of railways. 2

रेलवे के घनत्व को प्रभावित करने वाले दो मुख्य कारकों की व्याख्या कीजिए ।

37. Mention any two restrictions imposed on the Right to freedom. 2

स्वतंत्रता के अधिकार पर लगाये गये किन्हीं दो प्रतिबंधों का उल्लेख कीजिए ।

OR/अथवा

Explain any two provisions of the Right against exploitation.

शोषण के विरुद्ध अधिकार के किन्हीं दो प्रावधानों को स्पष्ट कीजिए ।

38. Explain any two major objectives of the Bhartiya Janata Party. 2
भारतीय जनता पार्टी के किन्हीं दो प्रमुख उद्देश्यों की व्याख्या कीजिए ।

39. What do you mean by Gross Domestic Product ? 2
सकल घरेलू उत्पाद से आप क्या समझते हैं ?

OR/अथवा

Explain the meaning of per capita income.

प्रति व्यक्ति आय का अर्थ स्पष्ट कीजिए ।

40. Explain any two characteristics of pressure groups. 2
दबाव समूहों की किन्हीं दो विशेषताओं का वर्णन कीजिए ।

41. Why did Mahatma Gandhi launch Non-Cooperation Movement in August, 1920 ? 2
Explain.

महात्मा गाँधी ने अगस्त, 1920 में असहयोग आन्दोलन क्यों प्रारम्भ किया ? स्पष्ट कीजिए ।

OR/अथवा

Why was Simon Commission boycotted by Indians ? Give two reasons.

साइमन कमीशन का भारतीयों ने बहिष्कार क्यों किया ? दो कारण बताओं ।

42. Why has Government of India started National Rural Health Mission ? Explain. 3
भारत सरकार द्वारा राष्ट्रीय ग्रामीण स्वास्थ्य योजना क्यों लागू की गयी ? स्पष्ट कीजिए ।

43. Explain any three characteristics of the South-West Monsoon season. 3
दक्षिण-पश्चिम मानसून मौसम की किन्हीं तीन विशेषताओं का वर्णन कीजिए ।

OR/अथवा

What is the importance of air transport in the modern age ? Explain in any three points.
आधुनिक युग में वायु परिवहन का क्या महत्त्व है ? किन्हीं तीन बिन्दुओं में वर्णन कीजिए ।

44. Suggest any three ways to strengthen Indian democracy. 3
भारतीय लोकतंत्र को मजबूत बनाने के लिए कोई तीन सुझाव दीजिए ।

OR/अथवा

Suggest any three ways to empower women.
महिलाओं के सशक्तिकरण के लिए कोई तीन सुझाव दीजिए ।

45. Mention any three impacts of Imperialism on India. 3
भारत पर साम्राज्यवाद के किन्हीं तीन प्रभावों का उल्लेख कीजिए ।

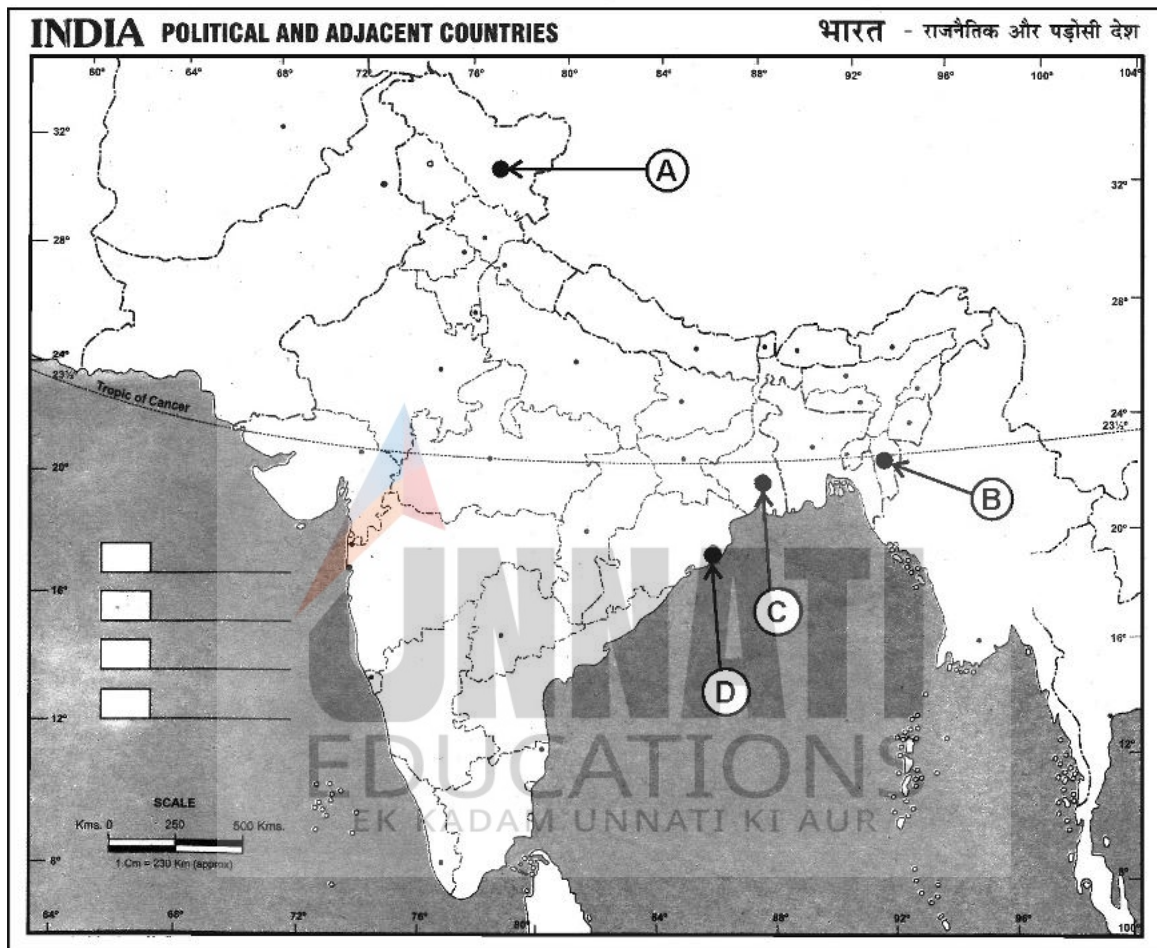
46. Explain any three differences between Himalayan and Peninsular drainage system. 3
हिमालयी और प्रायद्वीपीय नदी प्रणाली के बीच कोई तीन अन्तर स्पष्ट कीजिए ।

OR/अथवा

Explain any three main characteristics of Western Ghats.
पश्चिमी घाट की किन्हीं तीन प्रमुख विशेषताओं को स्पष्ट कीजिए ।

47. Explain any three challenges faced by the Political Parties in India. 3
भारत में राजनीतिक दलों के सामने आने वाली किन्हीं तीन चुनौतियों की व्याख्या कीजिए ।

48. The following four places related to the transportation facilities in India are marked as A, B, C and D on the given political outline map of India. Identify these places with the help of the following information and write their correct names on answer-book. 4
- भारत के दिये गये राजनीतिक रेखा-मानचित्र पर भारत में परिवहन सुविधाओं से संबंधित निम्नलिखित चार स्थानों को A, B, C और D के रूप में चिह्नित किया गया है। निम्नलिखित जानकारी की सहायता से इन स्थानों को पहचाने और उत्तर-पुस्तिका में उनके सही नाम लिखिए।



- (A) The Northern most terminal station of the North-South Corridor
 (B) The Eastern most terminal station of the Golden Quadrilateral
 (C) An International airport situated in West Bengal
 (D) A major port situated in Odisha
- (A) उत्तर-दक्षिण गलियारे का सबसे उत्तर का टर्मिनल स्टेशन
 (B) स्वर्णिम चतुर्भुज का सबसे पूर्व का टर्मिनल स्टेशन
 (C) पश्चिम बंगाल में स्थित एक अन्तर्राष्ट्रीय हवाई-अड्डा
 (D) ओडिशा में स्थित एक प्रमुख बन्दरगाह

Note : Following questions are for **Visually Impaired** candidates only in lieu of question number **48** :

नोट : निम्नलिखित प्रश्न केवल **दृष्टिबाधित** परीक्षार्थियों के लिए प्रश्न संख्या **48** के स्थान पर हैं :

48. (A) Name the Northern most terminal station of North-South Corridor.
(B) Name the Eastern most terminal station of Golden Quadrilateral.
(C) Name the place where an International airport situated in West Bengal.
(D) Name the place where a major port situated in Odisha.
- (A) उत्तर-दक्षिण गलियारे के सबसे उत्तर में स्थित टर्मिनल स्टेशन का नाम लिखिए ।
(B) स्वर्णिम चतुर्भुज के सबसे पूर्वी टर्मिनल स्टेशन का नाम लिखिए ।
(C) उस स्थान का नाम लिखिए जहाँ पश्चिम बंगाल में एक अन्तर्राष्ट्रीय हवाई-अड्डा स्थित है ।
(D) उस स्थान का नाम लिखिए जहाँ ओडिशा में एक प्रमुख बंदरगाह स्थित है ।

49. In the given political outline map of India, mark and label the following with appropriate symbols :

4

- (A) Rajiv Gandhi International Airport
(B) A major port situated in Andhra Pradesh
(C) The Vindhyaachal Párvat
(D) The Western most terminal station of Golden Quadrilateral

भारत के दिये गये राजनीतिक रेखा-मानचित्र पर निम्नलिखित को उपयुक्त चिहनों द्वारा अंकित कीजिए और उनके नाम लिखिए :

- (A) राजीव गाँधी अन्तर्राष्ट्रीय हवाई-अड्डा
(B) आन्ध्र प्रदेश में स्थित एक प्रमुख बन्दरगाह
(C) विन्ध्याचल पर्वत
(D) स्वर्णिम चतुर्भुज का सबसे पश्चिम का टर्मिनल स्टेशन

Note : Following questions are for **Visually Impaired** candidates only in lieu of question number **49** :

नोट : निम्नलिखित प्रश्न केवल **दृष्टिबाधित** परीक्षार्थियों के लिए प्रश्न संख्या **49** के स्थान पर हैं :

49. (A) Write the name of the place where is Rajiv Gandhi International Airport situated.

(B) Name the major port situated in Andhra Pradesh.

(C) Where is Vindhyaachal Parvat situated ?

(D) Name the Western most terminal station of Golden Quadrilateral.

(A) उस स्थान का नाम लिखें जहाँ राजीव गाँधी अन्तर्राष्ट्रीय हवाई-अड्डा स्थित है ।

(B) आन्ध्र प्रदेश में स्थित प्रमुख बन्दरगाह का नाम लिखिए ।

(C) विन्ध्याचल पर्वत कहाँ स्थित है ?

(D) स्वर्णिम चतुर्भुज के सबसे पश्चिमी टर्मिनल स्टेशन का नाम लिखिए ।

50. Explain any six functions of the Political Parties in India.

6

भारत में राजनीतिक दलों के किन्हीं छः कार्यों की व्याख्या कीजिए ।

OR/अथवा

What are Civil Society Organizations ? Write the names of any four contemporary Civil Society Organizations in India.

सिविल सोसाइटी संगठन क्या हैं ? भारत के किन्हीं चार समकालीन सिविल सोसाइटी संगठनों के नाम लिखिए ।

51. How did the socio-religious reform movements lead to the Indian National Movement ?
Explain in six points. 6

सामाजिक-धार्मिक सुधार आन्दोलनों ने किस प्रकार भारतीय राष्ट्रीय आन्दोलन का नेतृत्व किया ? किन्हीं छः बिन्दुओं में स्पष्ट कीजिए ।

OR/अथवा

Who introduced English education among the Muslims ? Explain in six points his/her contribution in this area.

मुसलमानों में अंग्रेजी की शिक्षा किसने शुरू की ? इस क्षेत्र में उनके योगदान को छः बिन्दुओं में स्पष्ट कीजिए ।



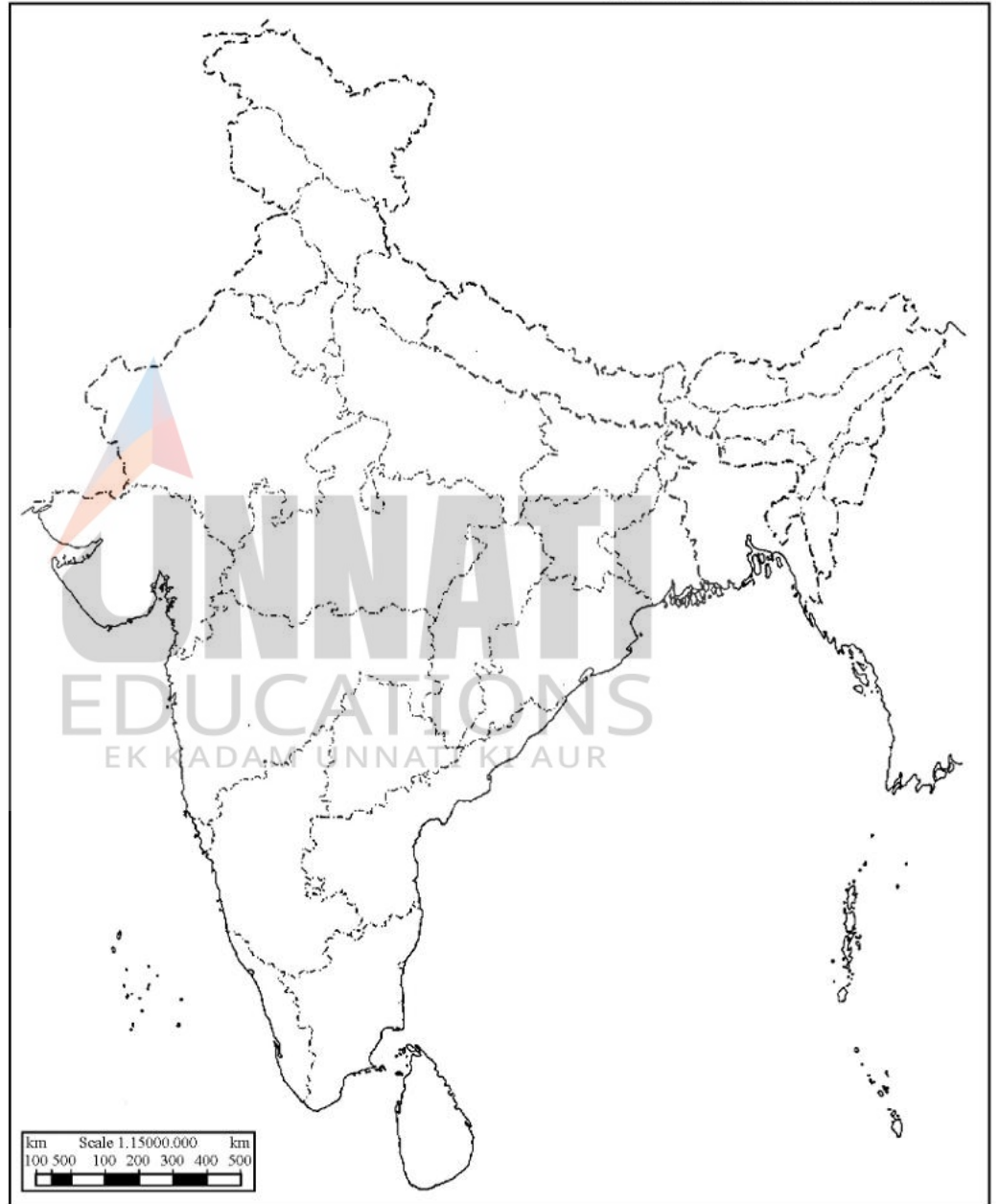
----- Cut Here ----- यहाँ से काटें ----- Cut Here ----- यहाँ से काटें -----

Map for Q. No. 49
प्रश्न सं. 49 के लिए रेखा-मानचित्र

Roll No.
रोल नं.

--	--	--	--	--	--	--	--	--	--	--	--	--	--	--	--	--	--	--	--

Political Outline Map of India
भारत का राजनीतिक रेखा-मानचित्र





70/OS/2/213-B

24

UNNATI EDUCATION
9899-436-384: 9654-279-279

This Question Paper consists of **51** questions and **22** printed pages + One Outline Map of **India**.
इस प्रश्न-पत्र में **51** प्रश्न तथा **22** मुद्रित पृष्ठ + **भारत** का एक रेखा-मानचित्र है।

Roll No.

--	--	--	--	--	--	--	--	--	--	--

अनुक्रमांक

9013C

SOCIAL SCIENCE
सामाजिक विज्ञान
(213)

Code No. **70/OS/2**
कोड नं.

SET/सेट

C

Day and Date of Examination
(परीक्षा का दिन व दिनांक)

Signature of Invigilators 1.
(निरीक्षकों के हस्ताक्षर)
2.

General Instructions :

1. Candidate must write his/her Roll Number on the first page of the Question Paper.
2. Please check the Question Paper to verify that the total pages and the total number of questions contained in the Question Paper are the same as those printed on the top of the first page. Also check to see that the questions are in sequential order.
3. For the objective type of questions, you have to choose any **one** of the four alternatives given in the question i.e. (A), (B), (C) or (D) and indicate your correct answer in the Answer-Book given to you.
4. All the questions including objective-type questions are to be answered within the allotted time and no separate time limit is fixed for answering objective-type questions.
5. Making any identification mark in the Answer-Book or writing Roll Number anywhere other than the specified places will lead to disqualification of the candidate.
6. Write your Question Paper Code No. **70/OS/2, Set C** on the Answer-Book.
7. (a) The Question Paper is in English/Hindi medium only. However, if you wish, you can answer in any **one** of the languages listed below :
English, Hindi, Urdu, Punjabi, Bengali, Tamil, Malayalam, Kannada, Telugu, Marathi, Odia, Gujarati, Konkani, Manipuri, Assamese, Nepali, Kashmiri, Sanskrit and Sindhi.
You are required to indicate the language you have chosen to answer in the box provided in the Answer-Book.
(b) If you choose to write the answer in the language other than Hindi and English, the responsibility for any errors/mistakes in understanding the questions will be yours only.



70/OS/2/213-C

सामान्य अनुदेश :

1. परीक्षार्थी प्रश्न-पत्र के पहले पृष्ठ पर अपना अनुक्रमांक अवश्य लिखें ।
2. कृपया प्रश्न-पत्र को जाँच लें कि प्रश्न-पत्र के कुल पृष्ठों तथा प्रश्नों की उतनी ही संख्या है जितनी प्रथम पृष्ठ के सबसे ऊपर छपी है । इस बात की जाँच भी कर लें कि प्रश्न क्रमिक रूप में हैं ।
3. वस्तुनिष्ठ प्रश्नों में आपको चार विकल्पों (A), (B), (C) अथवा (D) में से कोई एक उत्तर चुनना है तथा दी गई उत्तर-पुस्तिका में आप सही उत्तर लिखिए ।
4. वस्तुनिष्ठ प्रश्नों के साथ-साथ सभी प्रश्नों के उत्तर निर्धारित अवधि के भीतर ही देने हैं । वस्तुनिष्ठ प्रश्नों के लिए अलग से समय नहीं दिया जाएगा ।
5. उत्तर-पुस्तिका में पहचान-चिह्न बनाने अथवा निर्दिष्ट स्थानों के अतिरिक्त कहीं भी अनुक्रमांक लिखने पर परीक्षार्थी को अयोग्य ठहराया जायेगा ।
6. अपनी उत्तर-पुस्तिका पर प्रश्न-पत्र की कोड संख्या 70/OS/2, सेट C लिखें ।
7. (क) प्रश्न-पत्र केवल अंग्रेजी/हिंदी माध्यम में है । फिर भी, यदि आप चाहें तो नीचे दी गई किसी एक भाषा में उत्तर दे सकते हैं :
अंग्रेजी, हिंदी, उर्दू, पंजाबी, बंगला, तमिल, मलयालम, कन्नड़, तेलुगू, मराठी, उड़िया, गुजराती, कोंकणी, मणिपुरी, असमिया, नेपाली, कश्मीरी, संस्कृत और सिंधी ।
कृपया उत्तर-पुस्तिका में दिए गए बॉक्स में लिखें कि आप किस भाषा में उत्तर लिख रहे हैं ।
(ख) यदि आप हिंदी एवं अंग्रेजी के अतिरिक्त किसी अन्य भाषा में उत्तर लिखते हैं, तो प्रश्नों को समझने में होने वाली त्रुटियों/गलतियों की जिम्मेदारी केवल आपकी होगी ।

General Instruction / सामान्य अनुदेश :

In case of any doubt or confusion in the question paper, the English Version will prevail.

प्रश्न-पत्र में किसी भी प्रकार के संदेह अथवा दुविधा की स्थिति में अंग्रेजी अनुवाद ही मान्य होगा ।

General Instruction / सामान्य अनुदेश :

1. Answers of **all** questions are to be given in the Answer-Book given to you.
सभी प्रश्नों के उत्तर आपको दी गयी उत्तर-पुस्तिका में ही लिखें ।
2. **15 minutes** time has been allotted to read this Question Paper. The question paper will be distributed at **02.15 p.m.** From **02.15 p.m.** to **02.30 p.m.**, the students will read the question paper only and will not write any answer on the Answer-Book during this period.
इस प्रश्न-पत्र को पढ़ने के लिए **15 मिनट** का समय दिया गया है । प्रश्न-पत्र का वितरण दोपहर में **02.15 बजे** किया जाएगा । दोपहर **02.15 बजे** से **02.30 बजे** तक छात्र केवल प्रश्न-पत्र को पढ़ेंगे और इस अवधि के दौरान वे उत्तर-पुस्तिका पर कोई उत्तर नहीं लिखेंगे ।

SOCIAL SCIENCE

सामाजिक विज्ञान

(213)

Time : 3 Hours]

[Maximum Marks : 100

समय : 3 घण्टे]

[पूर्णांक : 100

Note : (i) This Question Paper consists of **51** questions in all.

(ii) **All** questions are compulsory.

(iii) Marks are given against each question.

(iv) **Section – A** consists of :

(a) **Q. No. 1 to 20** – Multiple Choice Type Questions (MCQs) carrying **1** mark each. Select and write the most appropriate option out of the four options given in each of these questions.

(b) **Q. No. 21 to 35** – Objective type questions carrying **2** marks each (with **2** sub-parts of **1** mark each and **4** sub parts of $\frac{1}{2}$ mark each). Attempt these questions as per the instructions given for each of the questions.

Section – B consists of :

(c) **Q. No. 36 to 41** – Very Short Answer type questions carrying **2** marks each to be answered in the range of **30** to **50** words. Attempt these questions as per the instructions given for each of the questions.

(d) **Q. No. 42 to 47** – Short Answer type questions carrying **3** marks each to be answered in the range of **50** to **80** words.

(e) **Q. No. 48 and 49** – Skill (Map) based questions carrying **4** marks each. (Alternative questions are given in lieu of map based questions for Visually impaired students.)

(f) **Q. No. 50 and 51** – Long Answer type questions carrying **6** marks each to be answered in **80** to **120** words.

निर्देश : (i) इस प्रश्न-पत्र में कुल 51 प्रश्न हैं ।

(ii) सभी प्रश्न अनिवार्य हैं ।

(iii) सभी प्रश्नों के अंक उनके साथ दिये गये हैं ।

(iv) खण्ड - अ के प्रश्न इस प्रकार हैं :

(a) प्र.सं. 1 से 20 तक – 1 अंक वाले बहुविकल्पीय प्रकार के प्रश्न हैं । इन प्रश्नों में दिये गये चार विकल्पों में से सर्वाधिक उपयुक्त विकल्प को चुनें तथा लिखें ।

(b) प्र.सं. 21 से 35 तक – 2 अंक वाले वस्तुनिष्ठ प्रकार के प्रश्न हैं (इनमें से कुछ प्रश्नों में प्रत्येक 1 अंक के 2 उप-भागों और प्रत्येक ½ अंक के 4 उप-भागों के साथ)। इन प्रश्नों का उत्तर प्रश्नों के साथ दिये गये निर्देशों के अनुसार दीजिये ।

खण्ड - ब के प्रश्न इस प्रकार हैं :

(c) प्र.सं. 36 से 41 तक – 2 अंक वाले अति-लघूत्तरीय प्रकार के प्रत्येक प्रश्न का उत्तर 30 से 50 शब्दों में दीजिये । इन प्रश्नों का उत्तर प्रश्नों के साथ दिये गये निर्देशों के अनुसार दें ।

(d) प्र.सं. 42 से 47 तक – 3 अंक वाले लघूत्तरीय प्रकार के प्रत्येक प्रश्न का उत्तर 50 से 80 शब्दों में दीजिए ।

(e) प्र.सं. 48 एवं 49 – कौशल (मानचित्र) पर आधारित 4 अंक वाले प्रश्न हैं । (दृष्टिबाधित छात्रों हेतु मानचित्र पर आधारित प्रश्नों के स्थान पर वैकल्पिक प्रश्न दिये गये हैं ।)

(f) प्र.सं. 50 एवं 51 – 6 अंक वाले दीर्घोत्तरीय प्रकार के प्रत्येक प्रश्न का उत्तर 80 से 120 शब्दों में दें ।

SECTION – A

खण्ड – अ

1. Where was the 'Permanent Settlement' started by Lord Cornwallis in 1793 ? 1
(A) Bengal and Bihar (B) Haryana and Punjab
(C) Rajasthan and Madhya Pradesh (D) Karnataka and Andhra Pradesh
1793 में लॉर्ड कॉर्नवालिस द्वारा 'स्थायी बंदोबस्त' कहाँ शुरू किया गया था ?
(A) बंगाल और बिहार (B) हरियाणा और पंजाब
(C) राजस्थान और मध्य प्रदेश (D) कर्नाटक और आन्ध्र प्रदेश
2. In which one of the following years the Indigo rebellion started in Bengal ? 1
(A) 1759 (B) 1859
(C) 1659 (D) 1559
निम्नलिखित में से किस वर्ष बंगाल में नील विद्रोह शुरू हुआ था ?
(A) 1759 (B) 1859
(C) 1659 (D) 1559
3. Who amongst the following gave order to open fire in Jalianwalla Bagh on 13th April, 1919 ? 1
(A) Lord Cornwallis (B) General Dyer
(C) Sir Henry Clinton (D) Thomas Gaze
निम्नलिखित में से किसने 13 अप्रैल, 1919 को जलियाँवाला बाग में गोली चलाने का आदेश दिया ?
(A) लॉर्ड कॉर्नवालिस (B) जनरल डायर
(C) सर हेनरी क्लिंटन (D) थॉमस गेज
4. In which one of the following years did Gandhiji reach Dandi to break the Salt Law ? 1
(A) 1940 (B) 1930
(C) 1920 (D) 1910
निम्नलिखित में से किस वर्ष गाँधीजी नमक कानून तोड़ने के लिए दांडी पहुँचे थे ?
(A) 1940 (B) 1930
(C) 1920 (D) 1910

5. Who amongst the following started the Khilafat Movement against the British Government ?

1

- (A) Gandhiji and Pt. Jawaharlal Nehru
- (B) Bal Gangadhar Tilak and Sardar Patel
- (C) Shoukat Ali and Mohammad Ali
- (D) Lala Lajpat Rai and Bipin Chandra Pal

निम्नलिखित में से किसने ब्रिटिश सरकार के खिलाफ खिलाफत आन्दोलन शुरू किया ?

- (A) गाँधीजी और पं. जवाहरलाल नेहरू
- (B) बाल गंगाधर तिलक और सरदार पटेल
- (C) शौकत अली और मोहम्मद अली
- (D) लाला लाजपत राय और बिपिनचन्द्र पाल

6. Who amongst the following built the first steam locomotive engine in 1814 ?

1

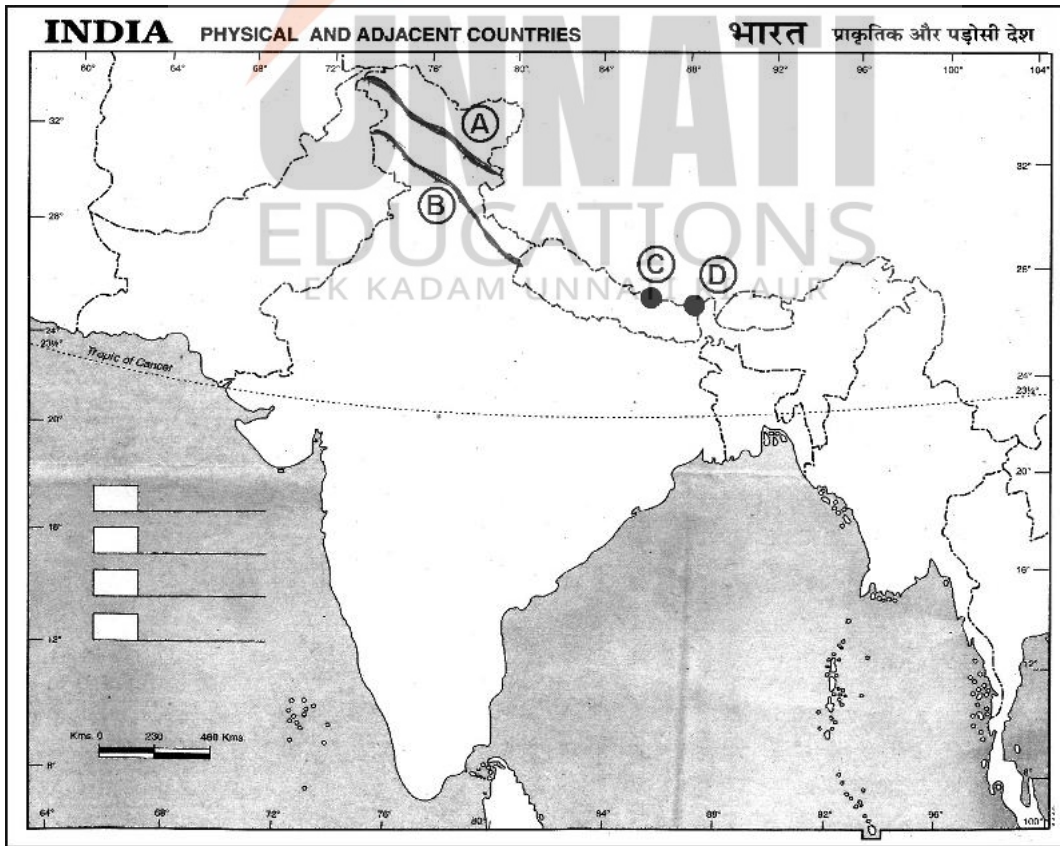
- (A) George Stephenson
- (B) Henry Cort
- (C) Samuel Slator
- (D) Michael Faraday

निम्नलिखित में से किसने 1814 में पहला स्टीम लोकोमोटिव इंजन का आविष्कार किया था ?

- (A) जॉर्ज स्टीफेंसन
- (B) हेनरी कर्ट
- (C) सैमुअल स्लेटर
- (D) माइकल फैराडे

Study the given map and answer the questions number 7 to 10.

दिए गए मानचित्र का अध्ययन कीजिए और प्रश्न संख्या 7 से 10 तक का उत्तर दीजिए ।



70/OS/2/213-C

6

7. Identify the mountain range marked as 'A' in the map. 1
- (A) Zaskar Range (B) Pirpanjal Range
(C) Karakoram Range (D) Shiwalik Range
- मानचित्र में 'A' के रूप में चिह्नित पर्वत शृंखला की पहचान कीजिए ।
- (A) जास्कर श्रेणी (B) पीरपंजाल श्रेणी
(C) कराकोरम श्रेणी (D) शिवालिक श्रेणी
8. Identify the mountain range marked as 'B' in the map. 1
- (A) Zaskar Range (B) Ladakh Range
(C) Pirpanjal Range (D) Karakoram Range
- मानचित्र में 'B' के रूप में चिह्नित पर्वत शृंखला की पहचान कीजिए ।
- (A) जास्कर श्रेणी (B) लद्दाख श्रेणी
(C) पीरपंजाल श्रेणी (D) कराकोरम श्रेणी
9. Identify the mountain peak marked as 'C' in the map. 1
- (A) Kanchenjunga (B) Mount Everest
(C) Makalu (D) Annapurna
- मानचित्र में 'C' के रूप में चिह्नित पर्वत-शिखर की पहचान कीजिए ।
- (A) कंचनजंगा (B) माउंट एवरेस्ट
(C) मकालू (D) अन्नपूर्णा
10. Identify the mountain peak marked as 'D' in the map. 1
- (A) Kanchenjunga (B) Namcha Barwa
(C) Nanda Devi (D) Dhaulagiri
- मानचित्र में 'D' के रूप में चिह्नित पर्वत-शिखर की पहचान कीजिए ।
- (A) कंचनजंगा (B) नामचा बरवा
(C) नंदा देवी (D) धौलागिरि

Note : Following questions are for **Visually Impaired** candidates only in lieu of Q. No. 7 to 10.

नोट : निम्नलिखित प्रश्न केवल **दृष्टिबाधित** परीक्षार्थियों के लिए प्रश्न संख्या 7 से 10 के स्थान पर है ।

7. Which is the outermost range of the Himalayas ? 1

- (A) Karakoram Range (B) Ladakh Range
(C) Shiwalik Range (D) Zaskar Range

हिमालय की सबसे बाह्य पर्वत-श्रेणी कौन सी है ?

- (A) कराकोरम श्रेणी (B) लद्दाख श्रेणी
(C) शिवालिक श्रेणी (D) जास्कर श्रेणी

8. How many parallel mountain ranges are the Himalayas divided into ? 1

- (A) Three (B) Two
(C) Four (D) Five

हिमालय को कितनी समानान्तर पर्वत श्रेणियों में विभाजित किया जाता है ?

- (A) तीन (B) दो
(C) चार (D) पाँच

9. Which is the highest peak of Himalayas in India ? 1

- (A) Kanchenjunga (B) Makalu
(C) Nanga Parvat (D) Dhaulagiri

भारत में हिमालय की सबसे ऊँची पर्वत चोटी कौन सी है ?

- (A) कंचनजंगा (B) मकालू
(C) नंगा पर्वत (D) धौलागिरि

10. Which one from the following is the highest peak of the Aravalli mountain ? 1

- (A) Gurushikhar (B) Mahendragiri
(C) Anaimudi (D) Dodabetta

निम्न में से अरावली पर्वत की सबसे ऊँची चोटी कौन सी है ?

- (A) गुरुशिखर (B) महेन्द्रगिरि
(C) अनाईमुडी (D) डोडाबेटा

11. Which one of following is the highest peak of the Western Ghat ? 1
- (A) Anaimudi (B) Makurti
(C) Dodabetta (D) Mahendragiri
- पश्चिमी घाट का सबसे ऊँचा पर्वत शिखर कौन सा है ?
- (A) अनाईमुडी (B) माकुर्ती
(C) डोडाबेटा (D) महेन्द्रगिरि
12. Which one of the following rivers is **not** the tributary of river Brahmaputra ? 1
- (A) Dibang (B) Kosi
(C) Lohit (D) Meghna
- निम्नलिखित में से कौन सी नदी ब्रह्मपुत्र नदी की सहायक नदी नहीं है ?
- (A) दिबांग (B) कोसी
(C) लोहित (D) मेघना
13. In which of the following years did coalition governments begin at the national level in India ? 1
- (A) 1952 (B) 1989
(C) 1977 (D) 1967
- निम्नलिखित में से किस वर्ष में राष्ट्रीय स्तर पर भारत में गठबंधन सरकारों की शुरुआत हुई ?
- (A) 1952 (B) 1989
(C) 1977 (D) 1967
14. Which one of the following countries is connected to India by Palk Strait ? 1
- (A) Sri Lanka (B) Maldives
(C) Malaysia (D) Indonesia
- निम्नलिखित में से कौन सा देश पाक जलडमरूमध्य द्वारा भारत से जुड़ा है ?
- (A) श्रीलंका (B) मालदीव
(C) मलेशिया (D) इण्डोनेशिया

15. Which one of the following rivers is **not** the tributary of the Indus river ? 1
- (A) Jhelum (B) Ravi
(C) Beas (D) Gandak
- निम्नलिखित में से कौन सी नदी सिंधु नदी की सहायक नदी **नहीं** है ?
- (A) झेलम (B) रावी
(C) ब्यास (D) गंडक
16. Which one of following line divides India into two equal parts ? 1
- (A) Tropic of Cancer (B) Tropic of Capricorn
(C) Prime Meridian (D) Tropic of Antarctica
- निम्नलिखित में से कौन सी रेखा भारत को दो बराबर भागों में बाँटती है ?
- (A) कर्क वृत्त (B) मकर वृत्त
(C) प्रधान मध्याह्न (D) अंटार्कटिक वृत्त
17. Who amongst the following social activists is associated with 'Narmada Bachao Andolan' ? 1
- (A) Ela Bhatt (B) Medha Patkar
(C) Aruna Roy (D) Irom Sharmila
- निम्नलिखित में से कौन सामाजिक कार्यकर्ता 'नर्मदा बचाओ आन्दोलन' से सम्बन्धित है ?
- (A) इला भट्ट (B) मेधा पाटकर
(C) अरुणा राय (D) इरोम शर्मिला
18. In which one of the following years was the Bharatiya Janata Party founded ? 1
- (A) 1990 (B) 1980
(C) 1970 (D) 1975
- निम्नलिखित में से किस वर्ष भारतीय जनता पार्टी की स्थापना हुई थी ?
- (A) 1990 (B) 1980
(C) 1970 (D) 1975

19. Which of the following is related to the Mid-Day Meal Scheme ? 1
- (A) Food for adults (B) Child nutrition aid
(C) Hospital projects (D) Food for farmers
- निम्नलिखित में से कौन सा मध्याह्न भोजन योजना (मिड-डे-मील) से संबंधित है ?
- (A) वयस्कों के लिए भोजन (B) बाल पोषण सहायता
(C) अस्पताल परियोजना (D) किसानों के लिए भोजन
20. Due to the arrival of monsoon winds from the South-West, which of the following states will receive rainfall first ? 1
- (A) Tamil Nadu (B) Karnataka
(C) Kerala (D) Maharashtra
- मानसून पवनों के दक्षिण-पश्चिम से आने के कारण निम्नलिखित में से किस राज्य में सर्वप्रथम वर्षा होगी ?
- (A) तमिलनाडु (B) कर्नाटक
(C) केरल (D) महाराष्ट्र
21. Complete the following sentence with the help of suitable words : 2 × 1
- India can be divided into mainly six physical divisions : the Northern Mountain, the Northern Plain, _____, the Indian Desert and the _____ and Islands.
- उपयुक्त शब्दों की सहायता से निम्नलिखित वाक्य को पूरा कीजिए :
- भारत को मुख्यतः छः भौतिक भू-भागों उत्तरी हिमालय, उत्तरी मैदान, _____, भारतीय रेगिस्तान, _____ और द्वीपसमूह में विभाजित किया जा सकता है।
22. Complete the following sentence with the help of any one from given options : 2 × 1
- The Bolshevik Party headed by _____ organised the Soviet Revolution in _____ .
- Option :
- (A) Bismarck, October 1920 (B) Lenin, October 1917
(C) Napoleon, October 1922 (D) Marx, October 1918
- दिये गये विकल्पों में से किसी एक की सहायता से निम्नलिखित वाक्य को पूरा कीजिए :
- _____ के नेतृत्व में बोल्शेविक पार्टी ने _____ में सोवियत क्रांति का आयोजन किया।
- विकल्प :
- (A) बिस्मार्क, अक्टूबर 1920 (B) लेनिन, अक्टूबर 1917
(C) नेपोलियन, अक्टूबर 1922 (D) मार्क्स, अक्टूबर 1918

23. True or False :

2 × 1

(a) The Rashtriya Janata Dal was formed by Lalu Prasad Yadav in 1997.

(b) The Shivsena is a political party of Tamil Nadu.

सही या गलत :

(a) राष्ट्रीय जनता दल का गठन 1997 में लालू प्रसाद यादव ने किया ।

(b) शिवसेना तमिलनाडु राज्य की राजनीतिक पार्टी है ।

24. Match the Column A with Column B correctly.

4 × ½

Column A

Column B

(a) Ahmadiya Movement (i) 1856

(b) Mohammedan Literacy Society (ii) 1875

(c) Aligarh Muslim University (iii) 1899

(d) Hindu Widow Re-marriage Act (iv) 1863

(v) 1873

स्तंभ A का सही मिलान स्तंभ B से कीजिए ।

स्तंभ A

स्तंभ B

(a) अहमदिया आन्दोलन (i) 1856

(b) मोहम्मदन साक्षरता सोसाइटी (ii) 1875

(c) अलीगढ़ मुस्लिम विश्वविद्यालय (iii) 1899

(d) हिन्दू विधवा पुनर्विवाह अधिनियम (iv) 1863

(v) 1873

70/OS/2/213-C

12

25. Match the Column A with Column B correctly.

4 × ½

Column A (Scholar)	Column B (Discovery)
(a) Samuel Crompton	(i) Electric Motor
(b) John Wilkinson	(ii) Spinning Mule
(c) George Stephenson	(iii) Drilling Machine
(d) Michael Faraday	(iv) Locomotive Engine
	(v) Telephone

स्तंभ A का सही मिलान स्तंभ B से कीजिए ।

स्तंभ A (वैज्ञानिक)	स्तंभ B (खोज)
(a) सैमुअल क्रॉम्पटन	(i) इलेक्ट्रिक मोटर
(b) जॉन विल्किन्सन	(ii) स्पिनिंग म्यूल
(c) जॉर्ज स्टीफेंसन	(iii) ड्रिलिंग मशीन
(d) माइकल फैराडे	(iv) लोकोमोटिव इंजन
	(v) टेलीफोन

26. Complete the following sentence : AM UNNATI KI AUR

2 × 1

In September, 1873 _____ Phule along his followers formed the _____ .

निम्नलिखित वाक्य पूरा कीजिए :

सितम्बर, 1873 में _____ फूले ने अपने अनुयायियों के साथ _____ का गठन किया ।

27. Complete the following sentence with the help of suitable words :

2 × 1

River Narmada divides the peninsular plateau into two parts – _____ and _____ .

उपयुक्त शब्दों की सहायता से निम्नलिखित वाक्य को पूरा कीजिए :

नर्मदा नदी, प्रायद्वीपीय पठार को दो भागों में बाँटती है – _____ और _____ ।

28. Complete the following sentence with the help of suitable words : 2 × 1

In India the Chief Justice and Judges of High Courts are appointed by the _____. For the appointment of the Chief Justice of each High Court, the President takes the advice of the Chief Justice of _____.

उपयुक्त शब्दों की सहायता से निम्नलिखित वाक्य को पूरा कीजिए :

भारत में उच्च न्यायालयों के मुख्य न्यायाधीश तथा न्यायाधीशों की नियुक्ति _____ के द्वारा होती है। प्रत्येक उच्च न्यायालय के मुख्य न्यायाधीश की नियुक्ति के लिए राष्ट्रपति _____ के मुख्य न्यायाधीश की सलाह लेते हैं।

29. Complete the following sentence with the help of suitable words : 2 × 1

When the _____ dissolves the Lok Sabha, it means that the House ceases to exist till it is reconstituted after the next _____.

उपयुक्त शब्दों की सहायता से निम्नलिखित वाक्य को पूरा कीजिए :

जब _____ लोक सभा को भंग करता है तो इसका अर्थ होता है कि अगला _____ होने तथा पुनर्गठित होने तक वर्तमान सदन का अस्तित्व नहीं रहेगा।

30. Complete the following sentence with the help of suitable words : 2 × 1

Monsoons are not equally distributed. Coastal areas like Kerala, West Bengal and Odisha receive _____ rainfall, whereas Interior regions like Haryana, Madhya Pradesh receive _____ rainfall.

उपयुक्त शब्दों की सहायता से निम्नलिखित वाक्य को पूरा कीजिए :

मानसून समान रूप से वितरित नहीं हैं। केरल, पश्चिम बंगाल और ओडिशा जैसे तटीय क्षेत्र _____ वर्षा प्राप्त करते हैं, जबकि हरियाणा, मध्य प्रदेश जैसे आंतरिक क्षेत्रों में _____ वर्षा प्राप्त होती है।

31. Complete the following sentence with the help of suitable words : 2 × 1
- The _____, grants _____ to the political parties and the candidates who contest elections.
- उपयुक्त शब्दों की सहायता से निम्नलिखित वाक्य को पूरा कीजिए :
- _____, राजनीतिक दलों और चुनाव लड़ने वाले उम्मीदवारों को _____ प्रदान करता है ।
32. Complete the following sentence with the help of suitable words : 2 × 1
- A _____ passed by the State Legislature becomes a Law or Act only when the _____ gives assent to it.
- उपयुक्त शब्दों की सहायता से निम्नलिखित वाक्य को पूरा कीजिए :
- राज्य विधायिका द्वारा पास किया गया कोई _____ तभी कानून या अधिनियम का रूप लेता है जब _____ उस पर अपनी स्वीकृति दे देता है ।
33. Complete the following sentence with the help of suitable words : 2 × 1
- The _____ has the powers to interpret the Constitution, and through this it has assumed the power of _____ review.
- उपयुक्त शब्दों की सहायता से निम्नलिखित वाक्य को पूरा कीजिए :
- _____ के पास संविधान की व्याख्या करने की शक्ति है तथा इसी के माध्यम से इसने _____ समीक्षा की शक्ति ग्रहण की है ।
34. Complete the following sentence with the help of suitable words : 2 × 1
- Indian Constitution provides legal remedies for the protection of our fundamental rights. This is called the Right to _____ given in article _____ of the Constitution.
- उपयुक्त शब्दों की सहायता से निम्नलिखित वाक्य को पूरा कीजिए :
- भारतीय संविधान हमारे मूलाधिकारों के संरक्षण के लिए कानूनी उपचार प्रदान करता है । इसे _____ का अधिकार कहा जाता है जो संविधान के अनुच्छेद _____ में दिया गया है ।

35. Identify True or False :

2 × 1

- (a) James Hargreaves invented a hand powered spinning wheel (the spinning Jenny).
- (b) The League of Nations was the first International organisation setup in 1936 with its headquarters at Geneva.

सही या गलत की पहचान कीजिए :

- (a) जेम्स हरग्रीव्स ने 'एक हाथ संचालित चरखा' (स्पनिंग जेनी) का आविष्कार किया ।
- (b) लीग ऑफ नेशन्स 1936 में स्थापित पहला अंतर्राष्ट्रीय संगठन था जिसका मुख्यालय जिनेवा में था ।

SECTION – B

खण्ड – ब

36. Explain two main factors affecting density of railways. 2

रेलवे के घनत्व को प्रभावित करने वाले दो मुख्य कारकों की व्याख्या कीजिए ।

37. Mention any two restrictions imposed on the Right to freedom. 2

स्वतंत्रता के अधिकार पर लगाये गये किन्हीं दो प्रतिबंधों का उल्लेख कीजिए ।

OR/अथवा

Explain any two provisions of the Right against exploitation.

शोषण के विरुद्ध अधिकार के किन्हीं दो प्रावधानों को स्पष्ट कीजिए ।

38. Explain any two importance of water transport. 2

जल परिवहन के किन्हीं दो महत्वों की व्याख्या कीजिए ।

39. Why did Mahatma Gandhi launch Non-Cooperation Movement in August, 1920 ? Explain. 2

महात्मा गाँधी ने अगस्त, 1920 में असहयोग आन्दोलन क्यों प्रारम्भ किया ? स्पष्ट कीजिए ।

OR/अथवा

Why was Simon Commission boycotted by Indians ? Give two reasons.

साइमन कमीशन का भारतीयों ने बहिष्कार क्यों किया ? दो कारण बताओं ।

40. Explain one social and one religious cause of the revolt of 1857. 2

1857 के विद्रोह के एक सामाजिक और एक धार्मिक कारण को स्पष्ट कीजिए ।

41. Explain the meaning of National Income. 2

राष्ट्रीय आय के अर्थ को स्पष्ट कीजिए ।

OR/अथवा

Explain any two roles of the government in the country's development.

देश के विकास में सरकार की किन्हीं दो भूमिकाओं की व्याख्या कीजिए ।

42. Explain any three challenges faced by the Political Parties in India. 3

भारत में राजनीतिक दलों के सामने आने वाली किन्हीं तीन चुनौतियों की व्याख्या कीजिए ।

43. How many freedoms have been provided by the Indian Constitution in Article 19 ? Explain any three. 3

भारतीय संविधान के अनुच्छेद 19 में कितनी स्वतन्त्रताएँ प्रदान की गयी हैं ? किन्हीं तीन का वर्णन कीजिए ।

OR/अथवा

How many fundamental rights are given to the Indian citizens by the Indian Constitution ? Explain any three.

भारतीय संविधान द्वारा भारतीय नागरिकों को कितने मौलिक अधिकार प्रदान किए गये हैं ? किन्हीं तीन का वर्णन कीजिए ।

44. Suggest any three ways to strengthen Indian democracy. 3
भारतीय लोकतंत्र को मजबूत बनाने के लिए कोई तीन सुझाव दीजिए ।

OR/अथवा

Suggest any three ways to empower women.

महिलाओं के सशक्तिकरण के लिए कोई तीन सुझाव दीजिए ।

45. Mention any three impacts of Imperialism on India. 3
भारत पर साम्राज्यवाद के किन्हीं तीन प्रभावों का उल्लेख कीजिए ।

46. Explain any three differences between Himalayan and Peninsular drainage system. 3
हिमालयी और प्रायद्वीपीय नदी प्रणाली के बीच कोई तीन अन्तर स्पष्ट कीजिए ।

OR/अथवा

Explain any three main characteristics of Western Ghats.

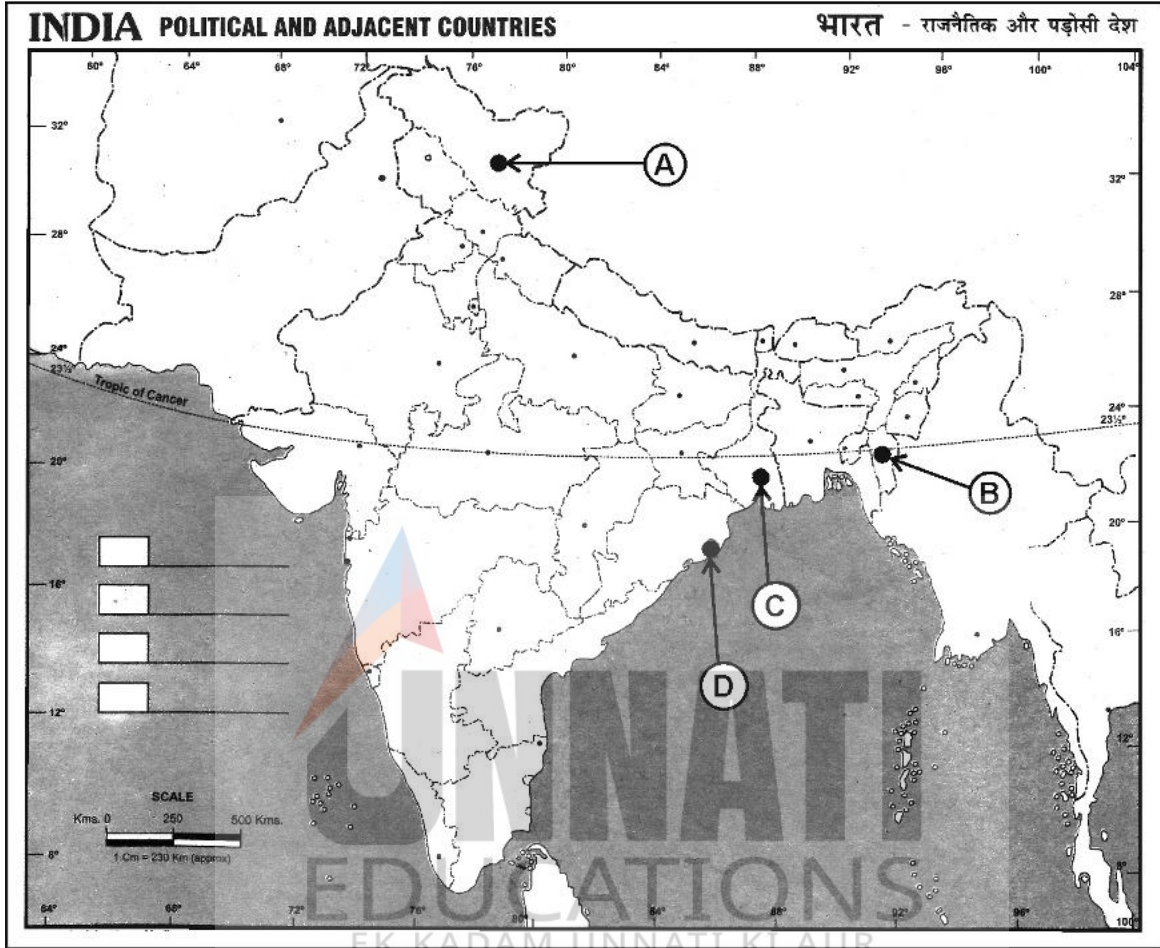
पश्चिमी घाट की किन्हीं तीन प्रमुख विशेषताओं को स्पष्ट कीजिए ।

47. Explain any three steps taken by the Indian Government for the Empowerment of the Scheduled castes and Scheduled tribes. 3

अनुसूचित जाति और अनुसूचित जनजाति के सशक्तिकरण के लिए भारतीय सरकार द्वारा उठाए गए किन्हीं तीन कदमों की व्याख्या कीजिए ।

48. The following four places related to the transportation facilities in India are marked as A, B, C and D on the given political outline map of India. Identify these places with the help of the following information and write their correct names on answer-book. 4

भारत के दिये गये राजनीतिक रेखा-मानचित्र पर भारत में परिवहन सुविधाओं से संबंधित निम्नलिखित चार स्थानों को A, B, C और D के रूप में चिह्नित किया गया है। निम्नलिखित जानकारी की सहायता से इन स्थानों को पहचाने और उत्तर-पुस्तिका में उनके सही नाम लिखिए।



- (A) The Northern most terminal station of the North-South Corridor
 (B) The Eastern most terminal station of the Golden Quadrilateral
 (C) An International airport situated in West Bengal
 (D) A major port situated in Odisha
- (A) उत्तर-दक्षिण गलियारे का सबसे उत्तर का टर्मिनल स्टेशन
 (B) स्वर्णिम चतुर्भुज का सबसे पूर्व का टर्मिनल स्टेशन
 (C) पश्चिम बंगाल में स्थित एक अन्तर्राष्ट्रीय हवाई-अड्डा
 (D) ओडिशा में स्थित एक प्रमुख बन्दरगाह

Note : Following questions are for **Visually Impaired** candidates only in lieu of question number **48** :

नोट : निम्नलिखित प्रश्न केवल **दृष्टिबाधित** परीक्षार्थियों के लिए प्रश्न संख्या **48** के स्थान पर हैं :

48. (A) Name the Northern most terminal station of North-South Corridor.
(B) Name the Eastern most terminal station of Golden Quadrilateral.
(C) Name the place where an International airport situated in West Bengal.
(D) Name the place where a major port situated in Odisha.
- (A) उत्तर-दक्षिण गलियारे के सबसे उत्तर में स्थित टर्मिनल स्टेशन का नाम लिखिए ।
(B) स्वर्णिम चतुर्भुज के सबसे पूर्वी टर्मिनल स्टेशन का नाम लिखिए ।
(C) उस स्थान का नाम लिखिए जहाँ पश्चिम बंगाल में एक अन्तर्राष्ट्रीय हवाई-अड्डा स्थित है ।
(D) उस स्थान का नाम लिखिए जहाँ ओडिशा में एक प्रमुख बंदरगाह स्थित है ।

49. In the given political outline map of India, mark and label the following with appropriate symbols :

4

- (A) Rajiv Gandhi International Airport
(B) A major port situated in Andhra Pradesh
(C) The Vindhyaachal Parvat
(D) The Western most terminal station of Golden Quadrilateral

भारत के दिये गये राजनीतिक रेखा-मानचित्र पर निम्नलिखित को उपयुक्त चिहनों द्वारा अंकित कीजिए और उनके नाम लिखिए :

- (A) राजीव गाँधी अन्तर्राष्ट्रीय हवाई-अड्डा
(B) आन्ध्र प्रदेश में स्थित एक प्रमुख बन्दरगाह
(C) विन्ध्याचल पर्वत
(D) स्वर्णिम चतुर्भुज का सबसे पश्चिम का टर्मिनल स्टेशन

Note : Following questions are for **Visually Impaired** candidates only in lieu of question number **49** :

नोट : निम्नलिखित प्रश्न केवल **दृष्टिबाधित** परीक्षार्थियों के लिए प्रश्न संख्या **49** के स्थान पर हैं :

49. (A) Write the name of the place where is Rajiv Gandhi International Airport situated.

(B) Name the major port situated in Andhra Pradesh.

(C) Where is Vindhyaachal Parvat situated ?

(D) Name the Western most terminal station of Golden Quadrilateral.

(A) उस स्थान का नाम लिखें जहाँ राजीव गाँधी अन्तर्राष्ट्रीय हवाई-अड्डा स्थित है ।

(B) आन्ध्र प्रदेश में स्थित प्रमुख बन्दरगाह का नाम लिखिए ।

(C) विन्ध्याचल पर्वत कहाँ स्थित है ?

(D) स्वर्णिम चतुर्भुज के सबसे पश्चिमी टर्मिनल स्टेशन का नाम लिखिए ।

50. Explain any six functions of the Political Parties in India.

6

भारत में राजनीतिक दलों के किन्हीं छः कार्यों की व्याख्या कीजिए ।

OR/अथवा

What are Civil Society Organizations ? Write the names of any four contemporary Civil Society Organizations in India.

सिविल सोसाइटी संगठन क्या हैं ? भारत के किन्हीं चार समकालीन सिविल सोसाइटी संगठनों के नाम लिखिए ।


51. How did the socio-religious reform movements lead to the Indian National Movement ?
Explain in six points. 6

सामाजिक-धार्मिक सुधार आन्दोलनों ने किस प्रकार भारतीय राष्ट्रीय आन्दोलन का नेतृत्व किया ? किन्हीं छः बिन्दुओं में स्पष्ट कीजिए ।

OR/अथवा

Who introduced English education among the Muslims ? Explain in six points his/her contribution in this area.

मुसलमानों में अंग्रेजी की शिक्षा किसने शुरू की ? इस क्षेत्र में उनके योगदान को छः बिन्दुओं में स्पष्ट कीजिए ।



यहाँ से काटें

Cut Here

यहाँ से काटें

Cut Here

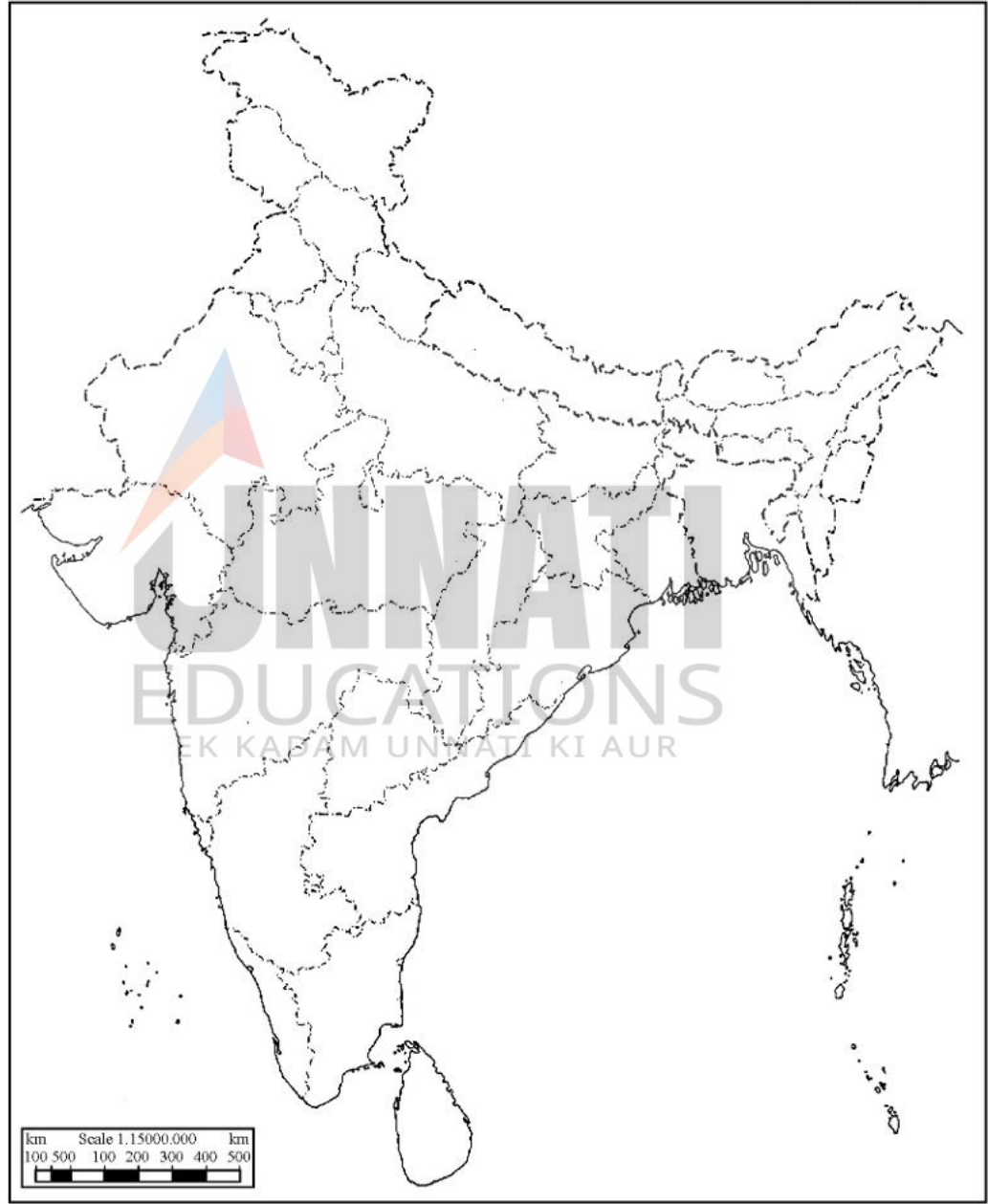
Map for Q. No. 49
प्रश्न सं. 49 के लिए रेखा-मानचित्र

Roll No.

--	--	--	--	--	--	--	--	--	--	--	--	--	--	--	--	--	--	--	--

रोल नं.

Political Outline Map of India
भारत का राजनीतिक रेखा-मानचित्र





70/OS/2/213-C

24

UNNATI EDUCATION
9899-436-384: 9654-279-279